



PREFEITURA MUNICIPAL DE CAMPO LARGO

CONCURSO PÚBLICO

EDITAL 01/2008

• 27 / ABRIL / 2008 •

CARGO DE: **GUARDA MUNICIPAL**

GABARITO

INSTRUÇÕES

01. Escreva na capa do caderno de prova o seu nome (por extenso e com letra de forma) e o seu número de protocolo. Assine em seguida.
02. Este caderno de prova contém: 50 (cinquenta) questões objetivas, numeradas de 01 a 50; sendo: 10 questões de Conhecimentos Específicos; 10 de Língua Portuguesa; 10 de Matemática, 10 de Informática e 10 questões de Conhecimentos Gerais e Atualidades.
03. A duração da prova será de 4 (quatro) horas, já incluído o tempo para o preenchimento da Folha de Respostas.
04. A interpretação das questões é parte integrante da prova, não sendo, portanto, permitidas perguntas aos fiscais.
05. A prova é INDIVIDUAL, sendo vedada a comunicação entre os candidatos durante sua realização.
06. Será eliminado o candidato que utilizar material de consulta ou qualquer sistema de comunicação.
07. Em cada questão objetiva, há somente uma resposta correta. Para facilitar, posteriormente, o preenchimento da Folha de Respostas, você poderá marcar, no modelo ao lado, a letra da alternativa que considera correta, antes de transcrevê-la para a Folha de Respostas.
08. O candidato só poderá entregar a sua Folha de Respostas e sair da sala, após transcorrido o tempo mínimo de 1 (uma) hora do início da prova.
09. O caderno de provas poderá ser levado pelo candidato a partir das 11 horas.
10. Ao receber sua Folha de Respostas, aja da seguinte forma:
 - a) verifique se os dados pré-impressos estão corretos;
 - b) assine no local indicado;
 - c) preencha, corretamente, com caneta esferográfica, ponta média, tinta azul-escuro ou preta, o campo correspondente à alternativa que considera correta em cada questão;
 - d) não a amasse, nem dobre e nem rasure.

ATENÇÃO:

- Utilize caneta, ponta média, de tinta azul-escuro ou preta, para preencher os campos solicitados.
- Preencha assim:
- Marcar mais de uma alternativa anulará a resposta.

RESPOSTAS de 01 a 20	RESPOSTAS de 21 a 40	RESPOSTAS de 41 a 60
01 <input type="checkbox"/> A <input type="checkbox"/> B <input type="checkbox"/> C <input type="checkbox"/> D <input type="checkbox"/> E	21 <input type="checkbox"/> A <input type="checkbox"/> B <input type="checkbox"/> C <input type="checkbox"/> D <input type="checkbox"/> E	41 <input type="checkbox"/> A <input type="checkbox"/> B <input type="checkbox"/> C <input type="checkbox"/> D <input type="checkbox"/> E
02 <input type="checkbox"/> A <input type="checkbox"/> B <input type="checkbox"/> C <input type="checkbox"/> D <input type="checkbox"/> E	22 <input type="checkbox"/> A <input type="checkbox"/> B <input type="checkbox"/> C <input type="checkbox"/> D <input type="checkbox"/> E	42 <input type="checkbox"/> A <input type="checkbox"/> B <input type="checkbox"/> C <input type="checkbox"/> D <input type="checkbox"/> E
03 <input type="checkbox"/> A <input type="checkbox"/> B <input type="checkbox"/> C <input type="checkbox"/> D <input type="checkbox"/> E	23 <input type="checkbox"/> A <input type="checkbox"/> B <input type="checkbox"/> C <input type="checkbox"/> D <input type="checkbox"/> E	43 <input type="checkbox"/> A <input type="checkbox"/> B <input type="checkbox"/> C <input type="checkbox"/> D <input type="checkbox"/> E
04 <input type="checkbox"/> A <input type="checkbox"/> B <input type="checkbox"/> C <input type="checkbox"/> D <input type="checkbox"/> E	24 <input type="checkbox"/> A <input type="checkbox"/> B <input type="checkbox"/> C <input type="checkbox"/> D <input type="checkbox"/> E	44 <input type="checkbox"/> A <input type="checkbox"/> B <input type="checkbox"/> C <input type="checkbox"/> D <input type="checkbox"/> E
05 <input type="checkbox"/> A <input type="checkbox"/> B <input type="checkbox"/> C <input type="checkbox"/> D <input type="checkbox"/> E	25 <input type="checkbox"/> A <input type="checkbox"/> B <input type="checkbox"/> C <input type="checkbox"/> D <input type="checkbox"/> E	45 <input type="checkbox"/> A <input type="checkbox"/> B <input type="checkbox"/> C <input type="checkbox"/> D <input type="checkbox"/> E
06 <input type="checkbox"/> A <input type="checkbox"/> B <input type="checkbox"/> C <input type="checkbox"/> D <input type="checkbox"/> E	26 <input type="checkbox"/> A <input type="checkbox"/> B <input type="checkbox"/> C <input type="checkbox"/> D <input type="checkbox"/> E	46 <input type="checkbox"/> A <input type="checkbox"/> B <input type="checkbox"/> C <input type="checkbox"/> D <input type="checkbox"/> E
07 <input type="checkbox"/> A <input type="checkbox"/> B <input type="checkbox"/> C <input type="checkbox"/> D <input type="checkbox"/> E	27 <input type="checkbox"/> A <input type="checkbox"/> B <input type="checkbox"/> C <input type="checkbox"/> D <input type="checkbox"/> E	47 <input type="checkbox"/> A <input type="checkbox"/> B <input type="checkbox"/> C <input type="checkbox"/> D <input type="checkbox"/> E
08 <input type="checkbox"/> A <input type="checkbox"/> B <input type="checkbox"/> C <input type="checkbox"/> D <input type="checkbox"/> E	28 <input type="checkbox"/> A <input type="checkbox"/> B <input type="checkbox"/> C <input type="checkbox"/> D <input type="checkbox"/> E	48 <input type="checkbox"/> A <input type="checkbox"/> B <input type="checkbox"/> C <input type="checkbox"/> D <input type="checkbox"/> E
09 <input type="checkbox"/> A <input type="checkbox"/> B <input type="checkbox"/> C <input type="checkbox"/> D <input type="checkbox"/> E	29 <input type="checkbox"/> A <input type="checkbox"/> B <input type="checkbox"/> C <input type="checkbox"/> D <input type="checkbox"/> E	49 <input type="checkbox"/> A <input type="checkbox"/> B <input type="checkbox"/> C <input type="checkbox"/> D <input type="checkbox"/> E
10 <input type="checkbox"/> A <input type="checkbox"/> B <input type="checkbox"/> C <input type="checkbox"/> D <input type="checkbox"/> E	30 <input type="checkbox"/> A <input type="checkbox"/> B <input type="checkbox"/> C <input type="checkbox"/> D <input type="checkbox"/> E	50 <input type="checkbox"/> A <input type="checkbox"/> B <input type="checkbox"/> C <input type="checkbox"/> D <input type="checkbox"/> E
11 <input type="checkbox"/> A <input type="checkbox"/> B <input type="checkbox"/> C <input type="checkbox"/> D <input type="checkbox"/> E	31 <input type="checkbox"/> A <input type="checkbox"/> B <input type="checkbox"/> C <input type="checkbox"/> D <input type="checkbox"/> E	51 <input type="checkbox"/> A <input type="checkbox"/> B <input type="checkbox"/> C <input type="checkbox"/> D <input type="checkbox"/> E
12 <input type="checkbox"/> A <input type="checkbox"/> B <input type="checkbox"/> C <input type="checkbox"/> D <input type="checkbox"/> E	32 <input type="checkbox"/> A <input type="checkbox"/> B <input type="checkbox"/> C <input type="checkbox"/> D <input type="checkbox"/> E	52 <input type="checkbox"/> A <input type="checkbox"/> B <input type="checkbox"/> C <input type="checkbox"/> D <input type="checkbox"/> E
13 <input type="checkbox"/> A <input type="checkbox"/> B <input type="checkbox"/> C <input type="checkbox"/> D <input type="checkbox"/> E	33 <input type="checkbox"/> A <input type="checkbox"/> B <input type="checkbox"/> C <input type="checkbox"/> D <input type="checkbox"/> E	53 <input type="checkbox"/> A <input type="checkbox"/> B <input type="checkbox"/> C <input type="checkbox"/> D <input type="checkbox"/> E
14 <input type="checkbox"/> A <input type="checkbox"/> B <input type="checkbox"/> C <input type="checkbox"/> D <input type="checkbox"/> E	34 <input type="checkbox"/> A <input type="checkbox"/> B <input type="checkbox"/> C <input type="checkbox"/> D <input type="checkbox"/> E	54 <input type="checkbox"/> A <input type="checkbox"/> B <input type="checkbox"/> C <input type="checkbox"/> D <input type="checkbox"/> E
15 <input type="checkbox"/> A <input type="checkbox"/> B <input type="checkbox"/> C <input type="checkbox"/> D <input type="checkbox"/> E	35 <input type="checkbox"/> A <input type="checkbox"/> B <input type="checkbox"/> C <input type="checkbox"/> D <input type="checkbox"/> E	55 <input type="checkbox"/> A <input type="checkbox"/> B <input type="checkbox"/> C <input type="checkbox"/> D <input type="checkbox"/> E
16 <input type="checkbox"/> A <input type="checkbox"/> B <input type="checkbox"/> C <input type="checkbox"/> D <input type="checkbox"/> E	36 <input type="checkbox"/> A <input type="checkbox"/> B <input type="checkbox"/> C <input type="checkbox"/> D <input type="checkbox"/> E	56 <input type="checkbox"/> A <input type="checkbox"/> B <input type="checkbox"/> C <input type="checkbox"/> D <input type="checkbox"/> E
17 <input type="checkbox"/> A <input type="checkbox"/> B <input type="checkbox"/> C <input type="checkbox"/> D <input type="checkbox"/> E	37 <input type="checkbox"/> A <input type="checkbox"/> B <input type="checkbox"/> C <input type="checkbox"/> D <input type="checkbox"/> E	57 <input type="checkbox"/> A <input type="checkbox"/> B <input type="checkbox"/> C <input type="checkbox"/> D <input type="checkbox"/> E
18 <input type="checkbox"/> A <input type="checkbox"/> B <input type="checkbox"/> C <input type="checkbox"/> D <input type="checkbox"/> E	38 <input type="checkbox"/> A <input type="checkbox"/> B <input type="checkbox"/> C <input type="checkbox"/> D <input type="checkbox"/> E	58 <input type="checkbox"/> A <input type="checkbox"/> B <input type="checkbox"/> C <input type="checkbox"/> D <input type="checkbox"/> E
19 <input type="checkbox"/> A <input type="checkbox"/> B <input type="checkbox"/> C <input type="checkbox"/> D <input type="checkbox"/> E	39 <input type="checkbox"/> A <input type="checkbox"/> B <input type="checkbox"/> C <input type="checkbox"/> D <input type="checkbox"/> E	59 <input type="checkbox"/> A <input type="checkbox"/> B <input type="checkbox"/> C <input type="checkbox"/> D <input type="checkbox"/> E
20 <input type="checkbox"/> A <input type="checkbox"/> B <input type="checkbox"/> C <input type="checkbox"/> D <input type="checkbox"/> E	40 <input type="checkbox"/> A <input type="checkbox"/> B <input type="checkbox"/> C <input type="checkbox"/> D <input type="checkbox"/> E	60 <input type="checkbox"/> A <input type="checkbox"/> B <input type="checkbox"/> C <input type="checkbox"/> D <input type="checkbox"/> E

O RESULTADO DA 1ª FASE – PROVA ESCRITA DE CONHECIMENTOS – SERÁ DIVULGADO EM 20/MAIO/2008.

CONHECIMENTOS ESPECÍFICOS

QUESTÃO 01

Assinale a alternativa correta sobre segurança pública, de acordo com o disposto no artigo 144 da Constituição Federal.

- A) Uma das destinações da polícia federal é exercer as funções de polícia marítima, aeroportuária e de fronteiras. **CORRETA**
- B) A polícia rodoviária federal destina-se ao patrulhamento ostensivo das rodovias federais e estaduais.
- C) A polícia rodoviária federal destina-se ao patrulhamento ostensivo das ferrovias federais.
- D) À polícia civil cabe o policiamento ostensivo e a preservação da ordem pública.
- E) À polícia militar cabe a função de polícia judiciária e a apuração de infrações penais.

QUESTÃO 02

Considerando a Lei Ordinária de Campo Largo nº 1670, de 03 de abril de 2003, assinale a alternativa que **NÃO** corresponde a uma das atribuições da Guarda Municipal.

- A) Exercer a vigilância interna e externa sobre os próprios municipais, com a finalidade de prevenir, internamente, a ocorrência de ilícitos penais.
- B) Exercer a vigilância interna e externa sobre os próprios municipais, com a finalidade de controlar a entrada e saída de veículos.
- C) Exercer a vigilância interna e externa sobre os próprios municipais, com a finalidade de patrulhar as rodovias estaduais que passam pelo Município. **CORRETA**
- D) Garantir os serviços de responsabilidade do Município, e também, sua ação fiscalizadora no desempenho de atividades de polícia administrativa.
- E) Executar os serviços de fiscalização do trânsito nas vias públicas municipais, sob as orientações do DEPTAN.

QUESTÃO 03

De acordo com a Lei Ordinária de Campo Largo nº 1670, de 03 de abril de 2003, qual o tipo de norma que deve regulamentar o funcionamento da Guarda Municipal?

- A) Instrução Normativa da Secretaria de Segurança do Município.
- B) Portaria da Secretaria de Segurança do Município.
- C) Lei Orgânica Municipal.
- D) Lei Ordinária Municipal.
- E) Decreto Executivo Municipal. **CORRETA**

QUESTÃO 04

De acordo com a Lei Ordinária de Campo Largo nº 1670, de 03 de abril de 2003, assinale a alternativa correta sobre a Guarda Municipal.

- A) A Guarda Municipal atuará em sintonia com os organismos policiais do Estado, podendo exercer outras atribuições, além daquelas que lhe são específicas.
- B) A Guarda Municipal colaborará, quando solicitada, com as tarefas atribuídas à defesa civil na ocorrência de calamidades públicas e sinistros de qualquer natureza. **CORRETA**
- C) A Guarda Municipal está vinculada à Secretaria de Segurança Pública.
- D) A Guarda Municipal será chefiada por um Superintendente, cargo de provimento em comissão.
- E) A Guarda Municipal será chefiada por um Superintendente, cargo de provimento efetivo.

QUESTÃO 05

Assinale a alternativa que **NÃO** corresponde a um dos direitos e deveres individuais e coletivos constantes do Art. 5º da Constituição Federal:

- A) Todos podem reunir-se pacificamente, sem armas, em locais abertos ao público, desde que possuam autorização da autoridade competente. **CORRETA**
- B) Homens e mulheres são iguais em direitos e obrigações.
- C) Ninguém será submetido à tortura nem a tratamento desumano ou degradante.
- D) É livre a manifestação do pensamento, sendo vedado o anonimato.
- E) A prática de racismo constitui crime inafiançável e imprescritível.

QUESTÃO 06

Sobre o Estatuto da criança e do adolescente assinale a alternativa INCORRETA.

- A) Para os efeitos do Estatuto da criança e do adolescente considera-se criança a pessoa até doze anos de idade incompletos.
- B) É dever exclusivo do Estado a efetivação dos direitos referentes à vida, à saúde, à alimentação, ao esporte e à educação dos menores. **CORRETA**
- C) A criança e o adolescente portadores de deficiência receberão atendimento especializado.
- D) É assegurado à gestante, por meio do Sistema Único de Saúde, o atendimento pré e perinatal.
- E) É obrigatória a vacinação das crianças nos casos recomendados pelas autoridades sanitárias.

QUESTÃO 07

De acordo com o Estatuto da criança e do adolescente a quem os estabelecimentos de ensino fundamental deverão comunicar os casos de maus-tratos envolvendo seus alunos?

A) Ao Conselho Tutelar. CORRETA

- B) Ao Governo do Estado.
C) Ao Ministério da Educação.
D) Ao Poder Judiciário.
E) Ao PROCON.

QUESTÃO 08

De acordo com o que dispõe o Estatuto da criança e do adolescente, assinale a alternativa correta.

- A) Em nenhum caso uma criança ou adolescente nascido no Brasil poderá sair do País em companhia de estrangeiro residente ou domiciliado no exterior.
B) É proibida a venda à criança ou ao adolescente de qualquer tipo de fogos de estampido ou de artifício.
C) É proibida a hospedagem de criança ou adolescente em hotel, motel ou pensão.

D) As revistas e publicações, contendo material impróprio a crianças e adolescentes, deverão ser comercializadas em embalagem lacrada e com advertência em relação ao seu conteúdo. CORRETA

- E) Toda a criança e adolescente terá acesso a quaisquer diversões e espetáculos, ainda que desacompanhada de seus pais ou responsável.

QUESTÃO 09

De acordo com o que dispõe o Estatuto da criança e do adolescente acerca da prática de ato infracional pelo adolescente, assinale a alternativa correta.

- A) São penalmente inimputáveis os menores de vinte e um anos.
B) A internação, antes da sentença, pode ser determinada pelo prazo máximo de trinta dias.

C) O adolescente tem direito à identificação dos responsáveis pela sua apreensão, devendo ser informado de seus direitos. CORRETA

- D) O adolescente, ainda que civilmente identificado, deverá ser submetido à identificação compulsória pelos órgãos policiais, de proteção e judiciais.
E) Poderá o adolescente ser privado de sua liberdade, antes de iniciado o devido processo legal.

QUESTÃO 10

O Art. 194 do Estatuto da criança e do adolescente dispõe que o procedimento para a imposição de penalidade administrativa por infração às normas de proteção à criança e ao adolescente terá início

por representação do Ministério Público, ou do Conselho Tutelar, ou ato de infração elaborado por servidor efetivo ou voluntário credenciado, e assinado por duas testemunhas, se possível. No procedimento iniciado com o auto de infração, qual é o prazo que o requerido dispõe para apresentação de defesa, a partir de sua intimação?

- A) 5 (cinco) dias úteis.

B) 10 (dez) dias. CORRETA

- C) 72 (setenta e duas) horas.
D) 15 (quinze) dias.
E) 45 (quarenta e cinco) dias.

LÍNGUA PORTUGUESA**QUESTÃO 11**

Considerando os períodos abaixo, com relação à pontuação, assinale a alternativa correta.

- I) Conforme os policiais, ao ser detida, e encaminhada, ao 4º Distrito de Polícia de Guarulhos a mãe demonstrou irritação e estranheza.
II) Conforme os policiais, ao ser detida e encaminhada ao 4º Distrito de Polícia de Guarulhos, a mãe demonstrou irritação e estranheza.
III) Conforme os policiais, ao ser detida, e encaminhada ao 4º Distrito de Polícia de Guarulhos a mãe, demonstrou irritação e estranheza.

- A) Apenas I está correta.

B) Apenas II está correta. CORRETA

- C) Apenas III está correta.
D) Apenas I e III estão corretas.
E) Apenas II e III estão corretas.

QUESTÃO 12

“**Há** uma incoerência entre a esperança do renascimento do processo de paz no Oriente Médio e a sombria situação local.”

(Folha de São Paulo)

Ao substituir o verbo grifado pelo verbo “existir” a alternativa correta é:

- A) “Existem uma incoerência entre a esperança do renascimento do processo de paz no Oriente Médio e a sombria situação local.”
B) “Existirá uma incoerência entre a esperança do renascimento do processo de paz no Oriente Médio e a sombria situação local.”
C) “Existiu uma incoerência entre a esperança do renascimento do processo de paz no Oriente Médio e a sombria situação local.”

D) “Existiria uma incoerência entre a esperança do renascimento do processo de paz no Oriente Médio e a sombria situação local.”

E) **“Existe uma incoerência entre a esperança do renascimento do processo de paz no Oriente Médio e a sombria situação local.”**
CORRETA

QUESTÃO 13

“Os Estados Unidos são considerados hoje um país bem mais fechado – **embora** em doze dias recebiam o mesmo número de imigrantes que o Brasil em um ano.”

A alternativa que substitui a expressão em negrito, sem prejuízo ao conteúdo, é:

A) já que.

B) todavia.

C) **ainda que. CORRETA**

D) entretanto.

E) talvez.

QUESTÃO 14

“O tabaco é um dos maiores problemas de saúde pública, a principal causa de morte no mundo, passível de prevenção e, **portanto**, uma missão já assumida como prioritária nas políticas públicas de países desenvolvidos”. Assinale a alternativa em que, após a substituição do elemento de coesão em negrito, **houve alteração** do significado da frase original:

A) O tabaco é um dos maiores problemas de saúde pública, a principal causa de morte no mundo, passível de prevenção e, conseqüentemente, uma missão já assumida como prioritária nas políticas públicas de países desenvolvidos.

B) O tabaco é um dos maiores problemas de saúde pública, a principal causa de morte no mundo, passível de prevenção e, dessa forma, uma missão já assumida como prioritária nas políticas públicas de países desenvolvidos.

C) O tabaco é um dos maiores problemas de saúde pública, a principal causa de morte no mundo, passível de prevenção e, assim, uma missão já assumida como prioritária nas políticas públicas de países desenvolvidos.

D) **O tabaco é um dos maiores problemas de saúde pública, a principal causa de morte no mundo, passível de prevenção e, contudo, uma missão já assumida como prioritária nas políticas públicas de países desenvolvidos. CORRETA**

E) O tabaco é um dos maiores problemas de saúde pública, a principal causa de morte no mundo, passível de prevenção e, por conseguinte, uma missão já assumida como prioritária nas políticas públicas de países desenvolvidos.

QUESTÃO 15

“A reciclagem deve ser vista como uma forte aliada para minimizar a influência da atividade humana nas mudanças climáticas, já que permite reduzir a utilização dos recursos naturais e evitar a emissão de gases de efeito estufa”. Considerando as assertivas abaixo em relação ao texto, assinale a alternativa correta.

I) A reciclagem diminui a capacidade de atividade humana, contribuindo para o ócio e o lazer, importantes para evitar estresse e o conseqüente uso inadequado de recursos naturais.

II) A reciclagem contribui fortemente para a diminuição da influência humana nas mudanças climáticas, por preservar recursos naturais e evitar emissão de gases poluentes.

III) A diminuição na utilização de recursos naturais e a conseqüente redução de emissão de gases de efeito estufa são aliadas no declínio da oferta de trabalho humano.

A) Apenas I está correta.

B) **Apenas II está correta. CORRETA**

C) Apenas III está correta.

D) Apenas I e III estão corretas.

E) Apenas II e III estão corretas.

O TEXTO A SEGUIR SERVE DE BASE PARA AS QUESTÕES DE 16 A 19.

Se você fosse uma criança que morasse no bairro Wazir Akbar Khan, em Cabul, já teria ouvido falar de Assef e do seu célebre soco-inglês de aço inoxidável, se não tivesse tido o azar de experimentá-lo na própria pele. Filho de mãe alemã e pai afegão, Assef era louro, de olhos azuis e bem mais alto que todos os outros garotos. Sua merecida fama de atos de selvageria o precedia pelas ruas. Ladeado por seus amigos obedientes, circulava pelas redondezas como um *khan* que passeasse pelas suas terras cercado de seu séquito obsequioso. Sua palavra era lei e se por acaso você precisasse de alguma instrução legal, aquele soco-inglês metálico seria o instrumento ideal para ele lhe transmitir os seus ensinamentos. Uma vez vi Assef usar o soco-inglês em um menino do bairro de Karteh-Char. Nunca vou esquecer como os seus olhos azuis brilhavam com uma luz não inteiramente sã, e como ele sorria, sim, como sorria enquanto murmurava o pobre garoto inconsciente. Alguns meninos de Wazir Akbar Khan o tinham apelidado Assef *Goshkhor*, ou Assef, o “Comedor de Orelhas”. É claro que ninguém ousava dizer isso na cara dele, a menos que quisesse ter o mesmo destino do pobre garoto que tinha inspirado involuntariamente esse apelido quando brigou com Assef por causa de uma pipa e acabou tendo que pescar a própria orelha direita dentro de uma valeta enlameada. Anos mais tarde, aprendi uma palavra que define muito

bem uma criatura como Assef, uma palavra para a qual não existe um equivalente perfeito em farsi: “sociopata”, (excerto de *O caçador de pipas*, p. 45.)

QUESTÃO 16

De acordo com o texto, é correto afirmar que:

- A) Assef era um menino louro, de olhos azuis e bem mais alto que os demais garotos de sua idade, fato pelo qual era bastante respeitado.
- B) O “Comedor de Orelhas” era um apelido dado a Assef por seus obedientes e fiéis amigos, que o cercavam pelas ruas de Karteh-Char.
- C) Os olhos de Assef brilhavam com uma luz não inteiramente sã e ele sorria sempre que podia bondosamente transmitir seus ensinamentos.
- D) Assef era temido pelos meninos do bairro de Wazir Akbar Khan, pois sua selvageria se expressava para além do uso do soco-ínglês. CORRETA**
- E) Assef, o menino que teve que pescar a própria orelha direita dentro de uma valeta enlameada, tornou-se, por isso, um sociopata.

QUESTÃO 17

No texto, *séquito obsequioso* quer dizer:

- A) funeral cuidadoso.
- B) comitiva atenciosa. CORRETA**
- C) procissão cortês.
- D) enterro zeloso.
- E) cortejo polido.

QUESTÃO 18

Segundo o texto, é correto afirmar que:

- A) O apelido de Assef, *Goshkhor*, se deve apenas ao fato de ele liderar seus amigos por meio de sua inteligência avançada.
- B) Na língua de Cabul, o farsi, não há uma palavra exata para exprimir a definição de uma criatura como Assef, um sociopata. CORRETA**
- C) Assef arrancou sua própria orelha direita e a engoliu, com dor e prazer, os olhos iluminados, para demonstrar sua força.
- D) A fama de menino mau de Assef não era ocultada pelo medo, por isso era impossível precaver-se de sua selvageria.
- E) Assef liderava os garotos da vizinhança e também sua mãe alemã e seu pai afegão, pelo que se transformou em um calibã.

QUESTÃO 19

“Sua merecida fama de atos de selvageria o **precedia** pelas ruas”. Escrevendo novamente este trecho, a alternativa em que se substitui a palavra destacada sem alterar o sentido é:

- A) Sua merecida fama de atos de selvageria o sucedia pelas ruas.
- B) Sua merecida fama de atos de selvageria o perseguiu pelas ruas.
- C) Sua merecida fama de atos de selvageria o antecedia pelas ruas. CORRETA**
- D) Sua merecida fama de atos de selvageria o acompanhava pelas ruas.
- E) Sua merecida fama de atos de selvageria o seguia pelas ruas.

QUESTÃO 20

Ordene os períodos a seguir, de modo que constituam um encadeamento lógico de idéias e, ordenados, formem um texto coeso.

- I) Minha mãe punha os filhos a manejar o aparato de ferro. Era um eixo movido a manivela; no meio se encaixava uma esfera oca, do tamanho de uma bola de basquete. Para pôr os grãos lá dentro, havia uma janelinha.
- II) Até o século 17, considerado vício, foi proibido em lugares como a Arábia, Turquia e Alemanha. Mas o “pretinho que satisfaz” venceu e junta-se hoje à mais alta tecnologia. Durante o século passado, nossa maior riqueza espalha-se por vales e montanhas, funda cidades, ergue teatros, imponentes palácios e mansões.
- III) Nós apoiávamos o eixo sobre dois suportes e acendíamos uma fogueirinha na parte de baixo. Girávamos a esfera até que começasse a exalar o delicioso aroma. O ritual dava bastante trabalho. Mas hoje dificilmente se toma café tão saboroso.
- IV) Até meados do século 20, pelo interior brasileiro, milhões de famílias não conheciam nem geladeira, quanto mais a facilidade de comprar pó de café na venda. Para ter a bebida na mesa, torrava-se e moía-se o grão verde em casa.
- V) Rasga ferrovias, promove a industrialização; atrai imigrantes e intensifica a miscigenação. A classe média se expande. O mercado interno cresce. Graças ao hábito universal do cafezinho, ficamos mais ricos.

A) II, I, III, V, IV.

B) IV, I, III, II, V. CORRETA

C) III, II, I, V, IV.

D) IV, II, V, I, III.

E) II, IV, I, III, V.

MATEMÁTICA

QUESTÃO 21

Na cidade de Campo Largo são lidos os seguintes jornais:

- Jornal O Fato;
- Folha de Campo Largo;
- Jornal O Metropolitano.

A tabela a seguir resume a porcentagem dos habitantes que lêem esses jornais.

Jornal	Porcentagem
Jornal O Fato	35%
Folha de Campo Largo	40%
Jornal O Metropolitano	39%
Jornal O Fato e Folha de Campo Largo	12%
Jornal O Fato e Jornal O Metropolitano	13%
Folha de Campo Largo e Jornal O Metropolitano	15%
Jornal O Fato, Folha de Campo Largo e Jornal O Metropolitano	5%

Com base nestes dados, pode-se afirmar que a porcentagem de habitantes de Campo Largo que não lê quaisquer dos jornais é de:

- A) 10%.
B) 21%. CORRETA
 C) 15%.
 D) 12%.
 E) 25%.

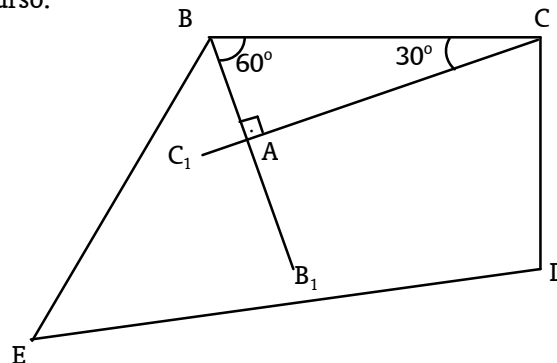
QUESTÃO 22

João precisa alugar um automóvel 1.0 por um dia. Pesquisou preços nas locadoras A e B. A locadora A cobra R\$ 60,00 a diária, mais R\$ 0,30 por quilômetro rodado. Na locadora B, a diária custa R\$ 50,00 e o quilômetro rodado, R\$ 0,40. Então, pode-se afirmar que:

- A) para rodar 200km é vantagem locar o automóvel da locadora A, pois o custo será R\$ 20,00 a menos que o da locadora B.
 B) para rodar 80km é vantagem locar o automóvel da locadora B, pois o custo será R\$ 5,00 a menos que o da locadora A.
C) para rodar 100km, a escolha pode ser por qualquer uma das locadoras, pois o custo, em ambas, será de R\$ 90,00. CORRETA
 D) para rodar 300km é vantagem locar o automóvel da locadora B, pois o custo será de R\$ 20,00 a menos que o da locadora A.
 E) para rodar 120km, a escolha pode ser por qualquer uma das locadoras, pois o custo, em ambas, é de R\$ 96,00.

QUESTÃO 23

Um topógrafo fez o esboço, mostrado na figura a seguir, do terreno BCDE. Quando foi medir o lado BC, percebeu que não poderia fazê-lo ligando a trena de B a C, pois havia um lago no caminho. Desta forma, para poder medir BC, usou o seguinte recurso:



- Da posição B, visou um ponto B₁, girando o teodolito de 60°;
- Da posição C, visou um ponto C₁, girando o teodolito de 30°;
- Na intersecção do segmento BB₁ com o segmento CC₁, encontrou o ponto A;
- Mediu a distância de A a B e obteve 2000m.
- Fez um cálculo final e obteve o comprimento de BC.

O resultado encontrado pelo topógrafo foi, em metros, de:

- A) 1000.
 B) 1120.
 C) 6300.
D) 4000. CORRETA
 E) 2000.

QUESTÃO 24

Seja a equação: $\sqrt{3^{x+1}} = 9\sqrt{3}$ e x a solução desta equação. Então, pode-se afirmar que x:

- A) é um número irracional.
 B) é um número natural menor que 3.
C) pertence ao intervalo [3,4]. CORRETA
 D) é uma dízima periódica.
 E) pertence ao conjunto dos números inteiros negativos.

QUESTÃO 25

O polinômio $P(x) = ax^3 + bx^2 + cx + d$ é idêntico ao polinômio $Q(x) = x^3 - 2x + 9$. Então, o valor de $\log a + 2^b + \log_2(-c) + \log_3 d$ é:

- A) 0.
 B) 1.
 C) 2.
 D) 3.
E) 4. CORRETA

QUESTÃO 26

Sr. Paulo, para poder escrever um artigo sobre a história da escola em que trabalha como secretário, reuiu todos os registros escolares, desde a sua fundação até dezembro de 2007. Observando a tabela abaixo, construída com os dados obtidos, percebeu que, anualmente, o número de alunos formados cresceu numa razão constante.

Ano	1981	1982	1983	1984	1985	...	2007
Nº de Alunos	330	410	490	570	650		?

Sendo assim, o número total de alunos formados nesta escola, desde a sua fundação até dezembro de 2007 é igual a:

- A) 34580.
- B) 36990. CORRETA**
- C) 39480.
- D) 24900.
- E) 24100.

QUESTÃO 27

Algumas das atividades desenvolvidas no primeiro trimestre de 2008 pelo secretário de uma escola estão representadas na tabela abaixo:

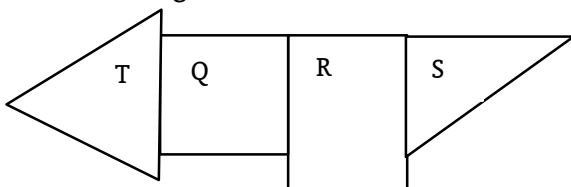
	Número de publicações arquivadas	Número de documentos incinerados	Número de determinações do diretor divulgadas	Tempo total gasto (minutos)
Janeiro	4	4	4	40
Fevereiro	8	5	6	64
Março	10	6	8	82

Então, pode-se afirmar que o tempo gasto para incinerar um documento, em minutos, é de:

- A) 2. CORRETA**
- B) 3.
- C) 4.
- D) 5.
- E) 6.

QUESTÃO 28

Para fazer a vigilância de uma reserva florestal o contingente de guardas florestais disponíveis foi dividido em 4 equipes. Usando referenciais locais, a reserva foi dividida em 4 regiões: T, Q, R e S, conforme mostra a figura abaixo.



Dado: $\sqrt{3} = 1,7$

Sabendo-se que “T” é um triângulo equilátero de 4 km de lado; que “Q” é um quadrado de 2,5 km de lado; que “R” é um retângulo de dimensões 2 km por 3 km; e que “S” é um triângulo retângulo cujos catetos medem 2,5 km e 2,8 km, pode-se afirmar que:

- A) a região “Q” é a região de menor área.
- B) a região “S” é a região de maior área.
- C) as regiões “Q” e “R” têm áreas iguais.
- D) as regiões “T” e “S” têm áreas iguais.
- E) a região “T” é a região de maior área. CORRETA**

QUESTÃO 29

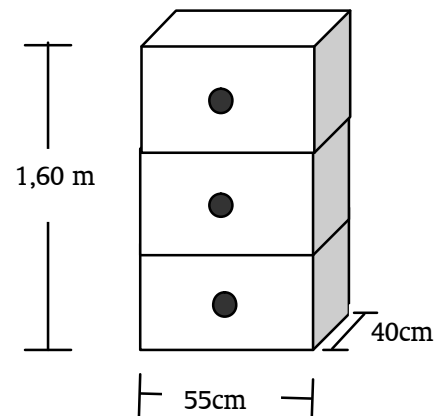
Cada equipe da Guarda Municipal de uma cidade é composta por 2 soldados, escolhidos aleatoriamente.

Em dezembro de 2007, com a admissão de mais 4 guardas, o número máximo de diferentes equipes que podem ser formadas é de 861 equipes. Sendo assim, o número de soldados que compunham a Guarda Municipal desta cidade, antes de dezembro de 2007, era igual a:

- A) 41.
- B) 45.
- C) 42.
- D) 38. CORRETA**
- E) 46.

QUESTÃO 30

Cada uma das gavetas, do arquivo abaixo representado, tem, internamente, 50 cm de largura, 38 cm de profundidade e 50 cm de altura.



Sendo assim, a área que este arquivo ocupa no piso da sala e o volume de documentos que comporta nas três gavetas, são, respectivamente, iguais a:

- A) 2200 cm² e 95000 cm³.
- B) 2,2 m² e 2850 m³.
- C) 2850 m³ e 2,2 m².
- D) 0,22 m² e 0,285 m³. CORRETA**
- E) 352000 cm³ e 2200 cm².

INFORMÁTICA

QUESTÃO 31

Quando um usuário preenche uma página com texto, o Word inicia automaticamente uma nova página inserindo uma quebra de página. No entanto, existem ocasiões em que o usuário pode inserir uma quebra de página manualmente. Qual das opções indica o procedimento correto para inserir manualmente uma quebra de página em um documento do Microsoft Word ?

- A) O usuário deve utilizar as teclas de atalho Ctrl+A.
- B) O usuário deve clicar na barra de menu Inserir e escolher a opção Quebra. Escolher a opção de Quebra de página e clicar em Ok. CORRETA**
- C) O usuário deve clicar na barra de menu Ferramentas e escolher a opção Quebra. Escolher a opção de Quebra de página e clicar em Ok.
- D) O Microsoft Word não permite a inserção de quebras de páginas manualmente, porque isto poderia alterar a formatação global do documento.
- E) O usuário deve clicar na barra de menu Exibir e escolher a opção Quebra de páginas, e clicar em Ok.

QUESTÃO 32






Os cabeçalhos e os rodapés são os textos que aparecem nos documentos na parte superior e na parte inferior. Para que um usuário possa inserir um texto nestas áreas ele deve:

- A) clicar na barra de menu Arquivo, escolher a opção Cabeçalho e Rodapé, e digitar os textos nas áreas de cabeçalho/rodapé.
- B) clicar na barra de menu Editar, escolher a opção Cabeçalho e Rodapé, e digitar os textos nas áreas de cabeçalho/rodapé.
- C) clicar na barra de menu Exibir, escolher a opção Cabeçalho e Rodapé, e digitar os textos nas áreas de cabeçalho/rodapé. CORRETA**
- D) clicar na barra de menu Inserir, escolher a opção Cabeçalho e Rodapé, e digitar os textos nas áreas de cabeçalho/rodapé.
- E) clicar na barra de menu Formatar, escolher a opção Cabeçalho e Rodapé, e digitar os textos nas áreas de cabeçalho/rodapé.

QUESTÃO 33

O Microsoft Word permite que os usuários insiram tabelas nos seus documentos. Qual das opções

indica corretamente o ícone **Inserir tabela** da barra de ferramentas padrão do Word?

- A)  Se o usuário clicar neste ícone, será criado automaticamente uma tabela com 5 linhas e 3 colunas. A partir deste ponto, o usuário poderá incluir ou excluir as colunas e linhas.
- B)  Se o usuário clicar neste ícone, será mostrada uma tabela que permitirá ao usuário identificar a quantidade de linhas e colunas que a tabela irá conter. Escolhendo a quantidade de colunas/linhas, será criada, automaticamente, a tabela. CORRETA**
- C)  Se o usuário clicar neste ícone, será mostrada uma tabela que permitirá ao usuário identificar a quantidade de linhas e colunas que a tabela irá conter. Escolhendo a quantidade de colunas/linhas, será criada, automaticamente, a tabela.
- D)  Este ícone serve para a inserção das tabelas em um documento do Word. Quando o usuário clica, abre uma janela pedindo a quantidade de colunas e linhas que a tabela irá conter.
- E)  Este ícone permite a inclusão de tabelas e planilhas, com linhas e colunas, dentro de um documento do Word.

QUESTÃO 34

Ao inserir uma tabela no Microsoft Word, algumas vezes poderá ser necessária a inclusão de uma nova coluna. Indique qual das opções mostra corretamente quais os passos para a inclusão desta nova coluna:

- A) Dar um clique na coluna na qual se deseja inserir a nova coluna. Clicar na barra de menu Tabela, escolher a opção Inserir, escolher a opção Colunas à direita. CORRETA**
- B) Dar um clique na coluna na qual se deseja inserir a nova coluna. Clicar na barra de menu Tabela, escolher a opção Colunas, escolher a opção Colunas à direita.
- C) Dar um clique na coluna na qual se deseja inserir a nova coluna. Clicar na barra de menu Tabela, escolher a opção Formatar em seguida escolher a opção Inserir Colunas à direita.
- D) Dar um clique na coluna na qual se deseja inserir a nova coluna e utilizar a tecla de atalho Ctrl+C.
- E) Dar um clique na coluna na qual se deseja inserir a nova coluna, clicar na barra de menus Inserir, escolher a opção Colunas e indicar Colunas à direita.

QUESTÃO 35

Copiar, recortar e colar são ferramentas muito utilizadas no Excel. Na planilha ilustrada, o usuário deve fazer uma cópia do conteúdo da célula B3 (Câmera de vídeo) para a célula B6. Qual a alternativa correta para fazer este procedimento?

	A	B	C
1	Controle de saída de mercadorias		
2	Data	Mercadoria	Quantidade
3	21/3/2008	Camera de vídeo	2
4	22/3/2008	Computador	4
5	23/3/2008	Mouse	15
6	24/3/2008		

- A) Clicar na célula B3, clicar na barra de menus **Exibir**, escolher a opção **Copiar**. Clicar na célula B6, clicar na barra de menus **Exibir** e escolher a opção **Colar**.
- B) Clicar na célula B3, clicar na barra de menus **Formatar**, escolher a opção **Copiar**. Clicar na célula B6, clicar na barra de menus **Formatar** e escolher a opção **Colar**.
- C) Clicar na célula B3, clicar na barra de menus Editar, escolher a opção Copiar. Clicar na célula B6, clicar na barra de menus Editar e escolher a opção Colar. CORRETA**
- D) Clicar na célula B3, clicar na barra de menus **Inserir**, escolher a opção **Copiar**. Clicar na célula B6, clicar na barra de menus **Inserir** e escolher a opção **Colar**.
- E) Clicar na célula B3, utilizar a barra de atalhos Ctrl+Z. Clicar na célula B6, utilizar a barra de atalhos Ctrl+V.

QUESTÃO 36

Qual o procedimento correto para colocar uma planilha, digitada, no Excel, na orientação Retrato para a orientação Paisagem?

- A) Clicar na barra de menus **Formatar**, escolher a opção **Orientação** e escolher o item **Paisagem**.
- B) Clicar na barra de menus **Editar**, escolher a opção **Orientação** e escolher o item **Paisagem**.
- C) Clicar na barra de menus **Arquivo**, escolher a opção **Orientação** e escolher o item **Paisagem**.
- D) Clicar na barra de menus Arquivo, escolher a opção Configurar página e escolher a orientação Paisagem. CORRETA**
- E) Clicar na barra de menus **Ferramentas**, escolher a opção **Configurar página** e escolher o item **Paisagem**.

QUESTÃO 37

Indicar qual opção mostra corretamente a aplicação de uma fórmula do Excel para calcular o to-

tal da quantidade de mercadorias vendida, de acordo com a figura ilustrada:

	A	B
1	Controle de vendas de mercadorias	
2	Descrição	Quantidade vendida
3	Caneta esferográfica	32
4	Lápis nº 05	20
5	Caderno 180 fls	12
6	Borracha branca	21
7	Papel A4 500 fls	3
8	Total	

- A) =B2+B3+B4+B5+B6+B7
- B) =B3:B7
- C) =B3+B4+B5+B6+B7 CORRETA**
- D) =SOMA(B3+B4+B5+B6+B7+B8)
- E) =A3+A4+A5+A6+A7

QUESTÃO 38

O aplicativo do Windows, que é utilizado para a manipulação de arquivos, é:

- A) Internet Explorer.
- B) Windows Messenger.
- C) Windows Media Player.
- D) Windows Explorer. CORRETA**
- E) Microsoft Outlook.

QUESTÃO 39

No Windows, indique qual a opção correta para copiar o arquivo **texto.doc** da pasta C:\Documentos para a pasta C:\Temporário:

- A) Executar o Windows Explorer, clicar em Meu computador, clicar em Disco local (C:), dar um clique duplo na pasta Documentos. Dentro desta pasta, localizar o arquivo texto.doc. Clicar com o botão da direita em cima deste arquivo, escolher a opção Copiar. Acessar a pasta Temporário que está localizado no Disco local (c:). Clicar na barra de menu Editar e escolher a opção Colar. CORRETA**
- B) Executar o Windows Explorer, clicar em **Meu computador**, clicar em **Disco local (C:)**, dar um clique duplo na pasta **Temporário**. Dentro desta pasta, localizar o arquivo **texto.doc**. Clicar com o botão da direita em cima deste arquivo, escolher a opção **Recortar**. Acessar a pasta **Documentos** que está localizada no Disco local (c:). Clicar na barra de menu **Editar** e escolher a opção **Colar**.
- C) Executar o Internet Explorer, clicar em **Meu computador**, clicar em **Disco local (C:)**, dar um clique duplo na pasta **Documentos**. Dentro desta pasta, localizar o arquivo **texto.doc**. Clicar com o botão da direita em cima deste arquivo, escolher a opção **Colar**. Acessar a pasta **Temporário** que está localizado no Disco local (c:). Clicar na barra de menu **Editar** e escolher a opção **Copiar**.

- D) Executar o Internet Explorer, clicar em **Meu computador**, clicar em **Disco local (C:)**, dar um clique duplo na pasta **Documentos**. Dentro desta pasta, localizar o arquivo **texto.doc**. Clicar com o botão da esquerda, escolher a opção **Preparar a cópia**. Acessar a pasta **Temporário** que está localizado no Disco local (c:). Clicar na barra de menu **Editar** e escolher a opção **Copiar**.
- E) Executar o Internet Explorer, clicar em **Meu computador**, clicar em **Disco local (C:)**, dar um clique duplo na pasta **Documentos**. Dentro desta pasta, localizar o arquivo **texto.doc**. Clicar com o botão da esquerda, escolher a opção **colar**. Acessar a pasta **Temporário** que está localizada no Disco local (c:). Clicar na barra de menu **Editar** e escolher a opção **Copiar**.

QUESTÃO 40

Para apagar a pasta C:\Backup o usuário deve proceder da seguinte forma:

- A) Executar o Windows Archive, clicar em **Meu computador**, escolher a opção **Disco local (c:)**, encontrar a pasta **Backup**, clicar com o botão da esquerda do mouse na pasta, escolher a opção **Excluir**, e, em seguida, escolher a opção **Sim**.
- B) Executar o Windows Explorer, clicar em **Meus arquivos**, escolher a opção **Disco local (c:)**, encontrar a pasta **Backup**, clicar com o botão da esquerda do mouse na pasta, escolher a opção **Excluir**, e, em seguida, escolher a opção **Sim**.
- C) Executar o Windows Explorer, clicar em Meu computador, escolher a opção Disco local (c:), encontrar a pasta Backup, clicar com o botão da direita do mouse na pasta, escolher a opção Excluir, e, em seguida, escolher a opção Sim. CORRETA**
- D) Executar o Windows Media Player, clicar em **Meu computador**, escolher a opção **Disco local (c:)**, encontrar a pasta **Backup**, clicar com o botão da direita do mouse na pasta, escolher a opção **Excluir**, e, em seguida, escolher a opção **Sim**.
- E) Executar o Internet Explorer, clicar em **Meus documentos**, escolher a opção **Disco local (c:)**, encontrar a pasta **Backup**, clicar com o botão da direita do mouse na pasta, escolher a opção **Apagar**, e, em seguida, escolher a opção **Sim**.

CONHECIMENTOS GERAIS E ATUALIDADES

QUESTÃO 41

Sobre a formação histórica do município paranaense de Campo Largo, é INCORRETO afirmar que:

- A) o ciclo do ouro no Paraná, em meados do século XVI, foi o primeiro fator de formação do município.
- B) logo após o ciclo do ouro, desenvolveu-se a pecuária e também pontos de pouso para os tropeiros que seguiam para São Paulo.
- C) no século XIX, chegaram imigrantes para o município, principalmente poloneses, italianos, alemães e portugueses.
- D) a fabricação de porcelana (ou louça) é expressiva no município de Campo Largo, sendo referência em todo Brasil.

E) aos nascidos no município, dá-se a denominação "campo-largueanos". CORRETA

QUESTÃO 42

Os filmes "Rio, 40 Graus" (1955) de Nelson Pereira dos Santos e "Terra em transe" (1967) de Glauber Rocha são trabalhos do cinema nacional que tentavam exprimir a realidade social e política do Brasil de maneira direta. Esse movimento cultural ficou conhecido por:

A) Cinema Novo. CORRETA

- B) Ciclo da Vera Cruz.
- C) Centro Popular de Cultura.
- D) Ciclo da Atlântida.
- E) Neo-Realismo Paulista.

QUESTÃO 43

Delfim Neto, ministro do planejamento, durante os anos 70, afirmava que a riqueza era como um "bolo" que precisaria crescer para depois ser dividido. Todavia, o bolo cresceu de maneira artificial (baseado em empréstimos externos) e suas fatias ficaram nas mãos de poucos. Estamos falando do (da):

- A) Plano de Metas.
- B) Reforma de Base.
- C) Plano Bresser.
- D) Milagre Brasileiro. CORRETA**

E) Plano Cruzado.

QUESTÃO 44

Na administração federal que foi marcada pela abertura do mercado nacional às importações e pelo início do programa nacional de desestatização; o presidente renunciou ao cargo na tentativa de evitar um processo de impeachment, em razão de acusações de corrupção. Estamos falando de:

- A) José Sarney.
- B) Fernando Collor. CORRETA**
- C) Itamar Franco.
- D) Fernando Henrique Cardoso.
- E) Paulo Maluf.

QUESTÃO 45

A Segunda Guerra Mundial (1939–1945) confrontou os Aliados às potências do Eixo e foi o conflito que causou mais vítimas em toda a história da humanidade. Sobre esse assunto, estabeleça correspondência entre a primeira coluna com a segunda e, em seguida, assinale a alternativa que apresenta a seqüência correta.

- (1) Afrika Korps
 (2) Ribbentrop-Molotov
 (3) Kamikaze
 (4) Blitzkrieg
 (5) Barbarossa
 () Força expedicionária comandada por Erwin Rommel.
 () Invasão nazista à URSS
 () Tratado de não-agressão nazi-soviético
 () Piloto suicida utilizado pela aviação japonesa
 () Guerra relâmpago
- A) 2, 3, 5, 4 e 1.
 B) 1, 2, 5, 4 e 3.
 C) 1, 5, 2, 4 e 3.
D) 1, 5, 2, 3 e 4. CORRETA
 E) 4, 5, 2, 3 e 1.

QUESTÃO 46

“Guerra Fria” é a designação atribuída ao conflito político-ideológico entre os Estados Unidos da América (EUA), defensores do capitalismo, e a União das Repúblicas Socialistas Soviéticas (URSS), defensora do socialismo, compreendendo o período entre o final da Segunda Guerra Mundial (1945) e a extinção da União Soviética (1991). Sobre esse período é INCORRETO afirmar que:

- A) durante a presidência de Harry Truman nos EUA, criou-se a Doutrina Truman, cujo objetivo era conter o avanço do comunismo pelo mundo.
 B) a Europa foi abalada pela invasão da Tchecoslováquia por parte das tropas do Pacto de Varsóvia, que puseram fim à "Primavera de Praga" e impediram que aquele país abandonasse os trilhos do socialismo.
 C) a América Latina foi assolada por uma série de golpes militares. No Chile, por exemplo, o presidente Salvador Allende foi deposto pelo golpe comandado pelo general Augusto Pinochet, que, de modo violento, acabou com as liberdades democráticas.
D) depois da Segunda Guerra Mundial, a Alemanha manteve-se territorialmente intacta, apesar da derrota. CORRETA
 E) em fins da década de 40, os EUA e o Canadá, juntamente com a maioria da Europa capitalista, criaram a OTAN (Organização do Tratado do Atlântico Norte), uma aliança militar com o obje-

tivo de proteção internacional, em caso de um suposto ataque dos países do leste europeu.

QUESTÃO 47

Em meados da década de 80 do século XX, Mikhail Gorbatchov assumiu o comando da União Soviética com propostas de mudanças profundas na economia e na política. Gorbatchov defendia que o liberalismo econômico era a única saída viável para os graves problemas econômicos e sociais da URSS. Sobre esse assunto, estabeleça a correspondência entre a primeira coluna e a segunda.

- (1) Perestroika
 (2) Glasnost
 (3) Chernobil
 (4) Solidarnosc
 (5) Einigungsvertrag
- () Transparência pública e liberdade de expressão.
 () Maior acidente nuclear da história, ocorrido na Ucrânia, em 1986.
 () Tratado de unificação da Alemanha, em 1990.
 () Sindicato polonês que combatia a dominação soviética em seu país.
 () Reestruturação econômica.

A seqüência correta é:

A) 2, 3, 5, 4 e 1. CORRETA

- B) 1, 2, 5, 4 e 3.
 C) 1, 5, 2, 4 e 3.
 D) 1, 5, 2, 3 e 4.
 E) 4, 5, 2, 3 e 1.

QUESTÃO 48

No alvorecer do século XXI, a hegemonia militar mundial dos Estados Unidos parece mais incontestável do que nunca. No entanto hoje em dia, no âmbito da economia, os Estados Unidos estão sofrendo sua MAIOR concorrência mundial com:

- A) o Canadá, cuja economia vem crescendo a uma taxa constante e extraordinária, combinando alta tecnologia e pleno emprego.
 B) a Ucrânia, cuja economia foi estimulada pelas reformas capitalistas com o fim da URSS e com o aumento de sua indústria pesada, espacial e armamentista.
C) a China, cuja economia vem crescendo a uma taxa anual próxima de 10%, em média, já há alguns anos, depois das reformas capitalistas empreendidas pós-Mao Zedong. CORRETA
 D) a Coreia do Norte, cuja economia fechada e auto-suficiente, voltada para a fabricação de bombas atômicas, consegue pressionar as nações desenvolvidas a enviar-lhe ajuda financeira.

- E) a Venezuela, cuja economia é baseada na indústria petrolífera e tornou-se uma liderança continental na América do Sul, sob o comando caudilhesco/socialista de Hugo Chávez.

QUESTÃO 49

“Globalização” é o processo de integração econômica, social, cultural e política dos países do mundo ao final do século XX e início do século XXI. Com base nesse entendimento, analise as proposições seguintes sobre as características da Globalização:

- I) Homogeneização dos centros urbanos e expansão das corporações para regiões fora de seus núcleos nacionais originais.
- II) Restrição ao comércio internacional, por meio da imposição de severas barreiras alfandegárias.
- III) Revolução tecnológica nas comunicações e na eletrônica e reorganização geopolítica do mundo em blocos comerciais (não mais ideológicos).
- IV) Fusão entre culturas populares locais e uma cultura de massa universal.

Estão corretas somente as proposições:

- A) I, II e III.

B) I, III e IV. CORRETA

- C) II, III e IV.

- D) I e IV.

- E) I e II.

QUESTÃO 50

O “11 de setembro de 2001” consistiu em uma série de ataques suicidas coordenados pela Al-Qaeda contra alvos civis nos Estados Unidos da América nessa data. Sobre as conseqüências desse episódio, analise as proposições seguintes:

- I) O presidente norte-americano George W. Bush passou a desrespeitar o direito internacional, ao proclamar sua decisão de atacar qualquer país, sem nenhum aviso prévio, sempre que sentisse uma ameaça.
- II) Centenas de prisioneiros de guerra do Afeganistão e “suspeitos” de terrorismo foram levados para a base norte-americana de Guantánamo, em Cuba, sem acusação formal ou processo judicial.
- III) Sob a falsa alegação de que Sadam Hussein teria fabricado armas químicas, os EUA invadiram o Iraque, no início de 2003, por meio de uma ofensiva terrestre, depois de uma série de ataques aéreos com mísseis e bombas à Bagdá.
- IV) O milionário saudita Osama bin Laden aprendeu a guerrear com os soviéticos, quando ajudou os comunistas a invadir o

Afeganistão em 1979, daí a origem do seu ódio contra os norte-americanos.

Estão corretas somente as proposições:

A) I, II e III. CORRETA

- B) I, III e IV.

- C) II, III e IV.

- D) I e IV.

- E) I e II.