

SECRETARIA DE ESTADO DA ADMINISTRAÇÃO E DA PREVIDÊNCIA

CONCURSO PÚBLICO 07/04/2013

INSTRUÇÕES

- Confira abaixo: seu nome, número de inscrição e cargo correspondente à sua inscrição. Assine no local indicado.
- Verifique se os dados impressos no Cartão-Resposta correspondem aos seus. Em caso de irregularidade, comunique-a imediatamente ao Fiscal.
- Não serão permitidos: empréstimos de materiais; consultas e comunicação entre os candidatos; uso de livros, apontamentos, relógios, aparelhos eletrônicos e, em especial, aparelhos celulares, os quais deverão ser desligados e colocados no saco plástico fornecido pelo Fiscal. O não cumprimento dessas exigências ocasionará a exclusão do candidato deste Concurso Público.
- Aguarde o Fiscal autorizar a abertura do Caderno de Prova. Após a autorização, confira a paginação antes de iniciar a Prova.
- Este Caderno de Prova contém 50 (cinquenta) questões objetivas, cada qual com apenas 1 (uma) alternativa correta. No Cartão-Resposta, preencha, com tinta preta, o retângulo correspondente à alternativa que julgar correta para cada questão.
- No Cartão-Resposta, anulam a questão: marcar mais de 1 (uma) alternativa em uma mesma questão; rasurar; preencher além dos limites do retângulo destinado a cada marcação. Não haverá substituição do Cartão-Resposta por erro de preenchimento.
- Não são permitidas perguntas ao Fiscal sobre as questões da prova.
- A duração desta prova será de **4 (quatro) horas**, já incluído o tempo para preenchimento do Cartão-Resposta.
- Ao concluir a prova, permaneça em seu lugar e comunique ao Fiscal.
- Aguarde autorização para devolver, em separado, o Caderno de Prova e o Cartão-Resposta, devidamente assinados.

--	--	--

Transcreva abaixo as suas respostas, dobre na linha pontilhada e destaque cuidadosamente esta parte.

.....
RESPOSTAS

01	02	03	04	05	06	07	08	09	10	11	12	13	14	15	16	17	18	19	20	21	22	23	24	25
26	27	28	29	30	31	32	33	34	35	36	37	38	39	40	41	42	43	44	45	46	47	48	49	50

O gabarito oficial provisório estará disponível no endereço eletrônico
www.cops.uel.br a partir das 17 horas do dia 8 de abril de 2013.

MATEMÁTICA

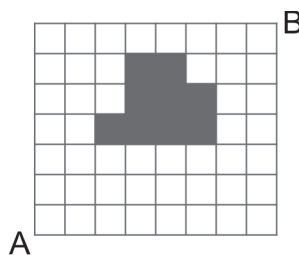
1 Em 2012, o orçamento mensal de uma empresa para a compra de refeições era de R\$ 100.000,00. Esse serviço era terceirizado e cada refeição tinha o custo unitário de R\$ 5,00. Em 2013, houve um acréscimo de 5% no orçamento mensal das refeições e 20% no seu valor unitário. Com base nessas informações e relativamente a um mês de 30 dias, considere as afirmativas a seguir.

- I. Em 2012, a empresa pôde comprar 20.100 refeições por mês.
- II. De 2012 para 2013 houve uma perda percentual de 15% de refeições por mês.
- III. Em 2013, a empresa pode comprar 17.500 refeições por mês.
- IV. De 2012 para 2013 houve uma perda de 2.500 refeições por mês.

Assinale a alternativa correta.

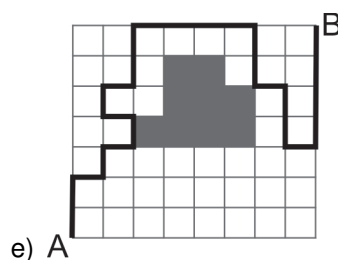
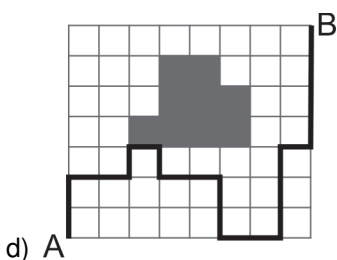
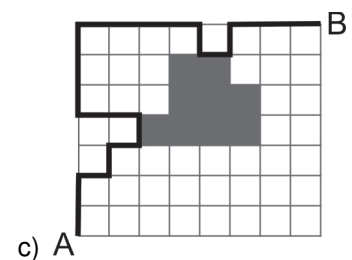
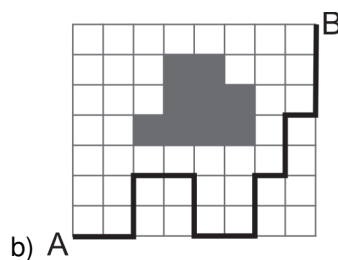
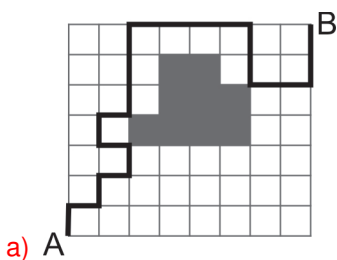
- a) Somente as afirmativas I e II são corretas.
- b) Somente as afirmativas I e IV são corretas.
- c) Somente as afirmativas III e IV são corretas.
- d) Somente as afirmativas I, II e III são corretas.
- e) Somente as afirmativas II, III e IV são corretas.

2 João necessita guiar um grupo de pessoas do ponto A ao ponto B por um terreno quadriculado, conforme figura a seguir.



O grupo só pode dar um passo de cada vez e encontra-se em fila indiana de frente para João que profere os seguintes comandos: frente, direita, frente, direita, frente, esquerda, frente, direita, frente, frente, direita, direita, direita, direita, trás, trás, direita, direita, frente, frente.

Sabendo que frente e trás são caminhos verticais e direita e esquerda são caminhos horizontais, assinale a alternativa que corresponde, corretamente, às coordenadas com as quais João guia o grupo do ponto A ao ponto B.



3 José está cronometrando o tempo de corrida de João, Pedro e Carlos. João corre 300 m em 30 s; Pedro, no mesmo percurso, é 5 s mais rápido que João, e Carlos corre $\frac{1}{3}$ da distância percorrida por Pedro, utilizando para isso o mesmo tempo que ele. Com base nessas informações, considere as afirmativas a seguir.

- I. João corre, em média, 10 m/s.
- II. Pedro corre, em média, 2 m/s a mais que João.
- III. Carlos corre 100 m em 25 s.
- IV. Carlos corre mais que João.

Assinale a alternativa correta.

- a) Somente as afirmativas I e II são corretas.
- b) Somente as afirmativas I e IV são corretas.
- c) Somente as afirmativas III e IV são corretas.
- d) Somente as afirmativas I, II e III são corretas.
- e) Somente as afirmativas II, III e IV são corretas.

4 Leia a manchete a seguir.

Sete homens presos em cela de 2 metros quadrados...

(Disponível em: <<http://www.gazetadopovo.com.br/vidaecidadania/conteudo.phtml?id=1315510&tit=Sete-homens-presos-em-cela-de-2-metros-quadrados-sao-transferidos>>. Acesso em: 2 fev. 2013.)

Suponha que essa cela seja proporcional a um paralelepípedo reto de altura 2,5 cm, cuja base é um retângulo de 1 cm de largura por 2 cm de comprimento, conforme figura a seguir.



Supondo que cada preso tenha em média 1,70 m de altura, 75 kg e aproximadamente 50 cm de ombro e que na cela não haja móveis e objetos, considere as afirmativas a seguir.

- I. 1,70 m está para 1,7 cm, assim como 2 m está para 2 cm, assim como 1 m está para 1 cm.
- II. É possível que todos os homens, ao mesmo tempo, fiquem deitados na horizontal com ventre e rosto voltados para cima, totalmente dentro da cela, um ao lado do outro.
- III. Se uma cela qualquer, em formato retangular, possui $2m^2$ de área, então, as únicas possibilidades de perímetros para os lados do retângulo são 1 m e 2 m.
- IV. O perímetro dessa cela é de 6 m.

Assinale a alternativa correta.

- a) Somente as afirmativas I e II são corretas.
- b) Somente as afirmativas I e IV são corretas.
- c) Somente as afirmativas III e IV são corretas.
- d) Somente as afirmativas I, II e III são corretas.
- e) Somente as afirmativas II, III e IV são corretas.

5 Qual é o número a , positivo, que somado com seu inverso é igual a 1 somado com 7 vezes o inverso do número a ?

- a) -2
- b) $\frac{1}{3}$
- c) $\frac{3}{2}$
- d) 2
- e) 3

6 Uma planilha do Microsoft Excel apresenta os valores a seguir.

	A	B	C
1	23	5	
2	12	8	
3	32	7	
4	17	9	
5	11	3	
6			

Assinale a alternativa que apresenta, corretamente, o resultado gerado pela fórmula =SOMASE(A1:A5; ">15";B1:B5).

- a) 0
 - b) 21
 - c) 32
 - d) 72
 - e) 95
- 7 Um disco rígido possui duas partições. Uma está no início do disco, possui um tamanho aproximado de 200 MB e está vazia. A outra ocupa todo o restante do disco, possui tamanho aproximado de 60 GB e está formatada através do sistema de arquivos NTFS, mas se encontra vazia. Assinale a alternativa que apresenta, corretamente, o que irá acontecer ao se tentar instalar o Windows 7 nesse disco rígido.
- a) O Windows não será instalado.
 - b) O Windows irá juntar as duas partições.
 - c) O Windows irá apagar a segunda partição.
 - d) O Windows será instalado normalmente.
 - e) O Windows irá dividir a segunda partição.
- 8 Relacione os ícones do painel de controle do Windows, na coluna da esquerda, com as suas respectivas funções, na coluna da direita.



(A) Sistema.



(B) Conexões de RemoteApp e Área de Trabalho.



(C) Windows Update.



(D) Central de Redes e Compartilhamento.



(E) Vídeo.

Assinale a alternativa que contém a associação correta.

- a) I-B, II-A, III-E, IV-C, V-D.
- b) I-B, II-E, III-C, IV-A, V-D.
- c) I-C, II-B, III-E, IV-A, V-D.
- d) I-D, II-E, III-A, IV-B, V-C.
- e) I-D, II-A, III-E, IV-B, V-C.

9 Em relação ao editor de texto Word, assinale a alternativa que apresenta, corretamente, o ícone responsável por inserir uma caixa de texto.



10 Sobre o navegador Internet Explorer, considere as afirmativas a seguir.

I. A tecla de atalho F5 irá carregar a página definida como inicial.

II. A tecla de atalho F11 inicia navegação em tela cheia.

III. Ele permite o bloqueio de janelas *pop-up*.

IV. A tecla de atalho CTRL+F4 fecha a guia de navegação corrente.

Assinale a alternativa correta.

a) Somente as afirmativas I e II são corretas.

b) Somente as afirmativas I e IV são corretas.

c) Somente as afirmativas III e IV são corretas.

d) Somente as afirmativas I, II e III são corretas.

e) Somente as afirmativas II, III e IV são corretas.

11 Leia o texto a seguir.

A Proposta de Emenda à Constituição (PEC) 478/2010, aprovada em segundo turno na Câmara dos Deputados em dezembro, prevê a revogação do Parágrafo Único do Art. 7º da Constituição Federal, que trata dos direitos que são concedidos aos trabalhadores domésticos.

(Disponível em: <<http://www.gazetadopovo.com.br/vidapublica/justica-direito/conteudo.phtml?tl=1&id=1353358&tit=Entre-a-dignidade-e-o-desafio-do-controle-de-jornada>>. Acesso em: 15 mar. 2013.)

Sobre os direitos dos trabalhadores domésticos, que a PEC propõe, considere as afirmativas a seguir.

- I. Trazer novas garantias para os trabalhadores domésticos.
- II. Ampliar direitos para além daqueles já estabelecidos para as demais categorias.
- III. Tornar facultativo o pagamento do FGTS e, assim, aumentar o número de empregos.
- IV. Sintonizar o Brasil com a Convenção sobre o Trabalho Decente para as Trabalhadoras e os Trabalhadores Domésticos.

Assinale a alternativa correta.

- a) Somente as afirmativas I e II são corretas.
- b) Somente as afirmativas I e IV são corretas.
- c) Somente as afirmativas III e IV são corretas.
- d) Somente as afirmativas I, II e III são corretas.
- e) Somente as afirmativas II, III e IV são corretas.

12 Leia o texto a seguir.

Em 1877, época do Império, Machado de Assis defendia que as mulheres ganhassem o direito de ir às urnas. Espirituoso, escreveu: “Venha, venha o voto feminino; eu o desejo, não somente porque é ideia de publicistas notáveis, mas porque é um elemento estético nas eleições, onde não há estética”. Machado assistiu à libertação dos escravos, à queda do Império e à proclamação da República, mas morreu sem ver o voto feminino.

(Disponível em: <<http://www12.senado.gov.br>>. Acesso em: 14 mar. 2013.)

Ao longo do ano de 2012, o debate acerca da conquista do voto feminino ocupou lugar de destaque. Assinale a alternativa que apresenta, corretamente, em que década do século XX a mulher brasileira adquiriu o direito ao voto.

- a) Dez.
- b) Vinte.
- c) Trinta.
- d) Quarenta.
- e) Cinquenta.

13 Segundo o iDicionárioAulete, o termo “mensalão” pode ser assim definido:

Quantia supostamente paga mensalmente (ou com outra periodicidade, ou de uma só vez) a deputados para mudarem de partido ou para votarem a favor de projetos de interesse do Poder Executivo.

(Disponível em: <<http://aulete.uol.com.br/MENSALÃO>>. Acesso em: 13 mar. 2013.)

Sobre o episódio que ficou conhecido como “mensalão” e o julgamento dos acusados pelo Supremo Tribunal Federal (STF), assinale a alternativa correta.

- a) Foram julgados e condenados em um mesmo processo réus que fazem ou faziam parte do PT e do PSDB.
- b) Os ex-parlamentares denunciados em virtude do “mensalão” foram excluídos do julgamento do STF por não mais possuírem foro privilegiado.
- c) Após o julgamento do “mensalão”, o Congresso aprovou nova legislação que impede a mudança de parlamentar no exercício do mandato para partido já existente.
- d) Entre os réus condenados no mensalão pelo STF, figuram parlamentares que asseguraram, pelas urnas, novo mandato nas eleições de 2010.
- e) Os réus do “mensalão” que não eram parlamentares à época dos fatos serão julgados em momento oportuno pela justiça comum.

14 Leia o texto a seguir.

Em 1980, o transporte de materiais para a Itaipu Binacional mobilizou 20.113 caminhões e 6.648 vagões ferroviários. Já a demanda por mão de obra provocava filas imensas nos centros de triagem dos consórcios. Entre 1978 e 1981, até 5 mil pessoas eram contratadas por mês. Ao longo da obra, em função do extenso período de construção e da rotatividade da mão de obra, somente o consórcio Unicon cadastrou cerca de 100 mil trabalhadores. No pico da construção da barragem, Itaipu mobilizou diretamente cerca de 40 mil trabalhadores no canteiro de obras e nos escritórios de apoio no Brasil e no Paraguai.

(Adaptado de: <<http://usinadeitaipu.blogspot.com.br/2011/09/itaipu-pedra-que-canta.html#!/2011/09/itaipu-pedra-que-canta.html>>. Acesso em: 10 mar. 2013.)

Sobre a Usina de Itaipu, considere as afirmativas a seguir.

- I. O consumo de energia da Usina de Itaipu, por parte do Paraguai, excede pouco mais de 10% do total gerado pela usina.**
- II. A construção da Usina de Itaipu foi financiada de forma paritária por Brasil e Paraguai, fato que implicou no individamento dos dois países.**
- III. A construção da Usina de Itaipu resultou no alagamento de Sete Quedas e na consequente perda de um importante local de visitação no Paraná.**
- IV. O início da produção de energia de Itaipu ocorreu na primeira metade da década de 1980.**

Assinale a alternativa correta.

- a) Somente as afirmativas I e II são corretas.
- b) Somente as afirmativas I e IV são corretas.
- c) Somente as afirmativas III e IV são corretas.**
- d) Somente as afirmativas I, II e III são corretas.
- e) Somente as afirmativas II, III e IV são corretas.

15 Leia o texto a seguir.

Com o Papa Francisco, as relações do Brasil com o Vaticano deverão ser cada vez mais intensas. As relações sempre foram excelentes, afinal começaram com a primeira missa celebrada no Brasil [em 1500, que foi descrita por Pero Vaz de Caminha em carta enviada aos reis de Portugal]. Não há pendência alguma entre a Santa Sé e o Brasil.

(Adaptado de: <<http://exame.abril.com.br/mundo/noticias/relacoes-do-brasil-com-vaticano-deverao-ser-mais-intensas>>. Acesso em: 25 mar. 2013.)

Sobre a recente eleição do Papa e as relações do Brasil com o Vaticano, considere as afirmativas a seguir.

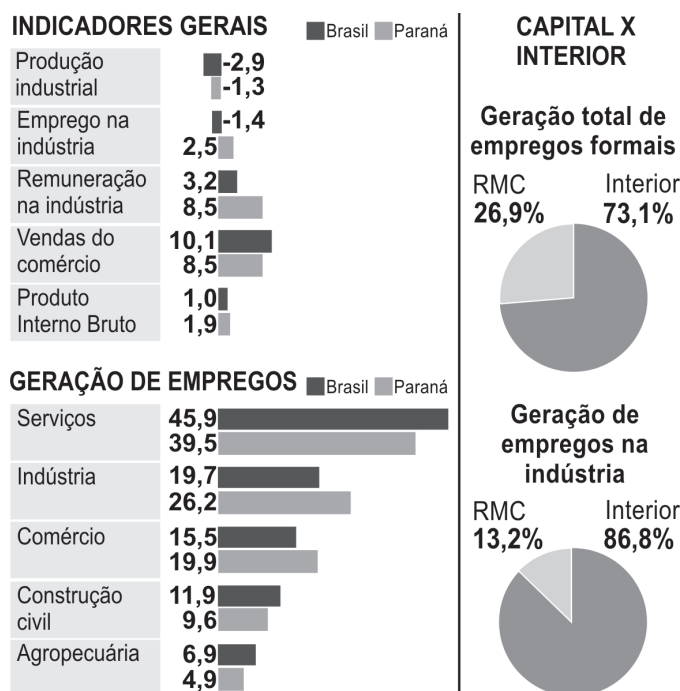
- I. O Papa é líder espiritual e político ao mesmo tempo.**
- II. Por ser reconhecido como Estado, o Vaticano mantém relações diplomáticas com o Brasil.**
- III. O Brasil é o maior país católico do mundo. Essa condição permite ao governo brasileiro indicar nomes da hierarquia católica para cargos no Vaticano.**
- IV. Apesar de não ser plenamente soberano, o Vaticano detém, à semelhança do Brasil, todas as características de uma comunidade política.**

Assinale a alternativa correta.

- a) Somente as afirmativas I e II são corretas.**
- b) Somente as afirmativas I e IV são corretas.
- c) Somente as afirmativas III e IV são corretas.
- d) Somente as afirmativas I, II e III são corretas.
- e) Somente as afirmativas II, III e IV são corretas.

16 Leia o texto e analise os gráficos a seguir.

Economia paranaense cresce acima da média brasileira em 2012. Emprego na indústria, remuneração e bom desempenho do interior são os principais motivos.



Fonte: Iparades. Infografia: Gazeta do Povo.

Tendo como referência esses gráficos e o desempenho da economia do Paraná, em 2012, considere as afirmativas a seguir.

- I. A economia do Paraná teve volume de vendas no comércio percentualmente inferior à média nacional.
- II. A alta na agricultura não foi maior em virtude da quebra na safra de verão, que comprometeu em aproximadamente 20% a produção agrícola.
- III. A produção industrial do Paraná registrou crescimento em relação ao ano de 2011.
- IV. Na construção civil, a geração de empregos no Paraná foi mais pujante do que a nacional.

Assinale a alternativa correta.

- a) Somente as afirmativas I e II são corretas.
- b) Somente as afirmativas I e IV são corretas.
- c) Somente as afirmativas III e IV são corretas.
- d) Somente as afirmativas I, II e III são corretas.
- e) Somente as afirmativas II, III e IV são corretas.

17 Leia o texto a seguir.

A ex-vereadora de Curitiba Renata Bueno foi oficializada como deputada do Parlamento italiano nesta terça-feira (12/03). Depois de entregar uma série de documentos pessoais à assembleia, ela recebeu a carteira parlamentar e já tem autorização para participar dos debates para a definição do novo governo italiano.

(Adaptado de: <<http://www.gazetadopovo.com.br/mundo/conteudo.phtml?tl=1&id=1352872&tit=Renata-Bueno-e-oficializada-como-deputada-no-Parlamento-italiano>>. Acesso em: 13 mar. 2013.)

A Itália, país onde Renata atuará como deputada, é uma República parlamentarista e conta com semelhanças e diferenças em relação ao Brasil quanto ao funcionamento do Poder Legislativo.

Sobre esse tema, assinale a alternativa correta.

- a) Nos mesmos moldes da Itália, o Brasil também possui deputados, vindos de fora, que representam os brasileiros que emigraram.
- b) Itália e Brasil são Repúblicas e adotam o parlamentarismo como sistema de governo.

- c) No Brasil, existe a prerrogativa de um estrangeiro assumir a presidência da República, se naturalizado.
- d) A nova parlamentar, apesar de eleita, por ser estrangeira, exercerá funções de importância secundária no Parlamento italiano.
- e) A deputada foi eleita para representar os italianos ou brasileiros com dupla cidadania que vivem na América do Sul.

18 Observe a charge a seguir.



(Disponível em: <http://www.chargesdojaime.com.br/lei-seca-em-acao/?utm_source=rss&utm_medium=rss&utm_campaign=lei-seca-em-acao>. Acesso em: 20 mar. 2013.)

Com relação à charge e à Lei Seca, considere as afirmativas a seguir.

- I. A charge explora a incapacidade do jovem de perceber a situação em seu entorno, pois a bebida em excesso provoca efeitos colaterais tais como sonolência, lentidão nos reflexos e falta de coordenação motora mais acentuada.
- II. O jovem da charge seria multado em R\$ 650,00 pelo fato de ter sido flagrado em uma *blitz* dirigindo alcoolizado. No caso de reincidência, o valor dobraria para R\$ 1.300,00, e ele perderia o direito de dirigir por dois anos.
- III. Se o jovem da charge tivesse ingerido até uma dose de *whisky* ou um lata de cerveja, estaria isento de qualquer sanção em virtude da previsão legal, que estabelece quantidade mínima de álcool igual ou superior a oito decigramas por litro de sangue.
- IV. Caso o jovem da charge se recuse a fazer o teste do bafômetro, outras formas podem ser utilizadas para provar a embriaguez do motorista, a exemplo de testes clínicos, fotos, vídeos e o próprio depoimento policial.

Assinale a alternativa correta.

- a) Somente as afirmativas I e II são corretas.
- b) Somente as afirmativas I e IV são corretas.
- c) Somente as afirmativas III e IV são corretas.
- d) Somente as afirmativas I, II e III são corretas.
- e) Somente as afirmativas II, III e IV são corretas.

19 Sobre o tema dos *royalties* do petróleo do pré-sal, assinale a alternativa que apresenta os Estados produtores.

- a) Espírito Santo, Rio de Janeiro e São Paulo.
- b) Bahia, Espírito Santo e Rio de Janeiro.
- c) Pernambuco, Rio Grande do Norte e Sergipe.
- d) Bahia, Santa Catarina e Sergipe.
- e) Pernambuco, Santa Catarina e São Paulo.

20 Observe a charge a seguir.



(Disponível em: <<http://emvogas.wordpress.com/2007/07/01/uma-midia-da-multidao-parte-final/>>. Acesso em: 20 mar. 2013.)

Tendo como referência a charge e o tema da inclusão digital, considere as afirmativas a seguir.

- I. Existe um vínculo próximo entre cidadania e acesso à informação pelo fato desta propiciar maior autonomia ao indivíduo.
- II. Entre os meios de inclusão digital estão as tecnologias voltadas para pessoas que necessitam de acessibilidade.
- III. Os elementos apresentados pela charge exploram a dificuldade de adaptação dos indivíduos às novas tecnologias.
- IV. O acesso ao computador em si já configura que o indivíduo faz parte da categoria daqueles que estão incluídos digitalmente.

Assinale a alternativa correta.

- a) Somente as afirmativas I e II são corretas.
- b) Somente as afirmativas I e IV são corretas.
- c) Somente as afirmativas III e IV são corretas.
- d) Somente as afirmativas I, II e III são corretas.
- e) Somente as afirmativas II, III e IV são corretas.

Leia o texto, a seguir, e responda às questões de 21 a 26.

A imagem de presos apinhados numa cela, de tão repetida, já anestesia os paranaenses. Parece se tratar de mais um dos problemas crônicos, como de resto, com os quais deveríamos nos acostumar – ao lado de morros desabando e concessões à corrupção. O risco de virar rotina é, de fato, de alta probabilidade. Como já chegou a declarar o sociólogo Francisco de Oliveira, o sistema prisional é a única instituição pública mantida pelo cidadão brasileiro, mas que não lhe diz respeito. Pouco sabe do assunto e pouco lhe é dito. Por tabela, pouco pergunta, perpetuando a ignorância.

Cadeia e delegacia são vistas como questões do Estado, com as quais não devemos nos meter. O preço pago por essa cultura é alto – estamos entre as nações de destaque no desrespeito aos direitos humanos nas prisões. Somos de ponta em administração do mundo do crime pelos que estão atrás das grades. Tão grave é que uma das frases de 2012 foi a do ministro da Justiça, José Eduardo Cardozo, declarando preferir morrer a ir para uma prisão brasileira. Poderia ser repetida em coro por 190 milhões em ação.

Em meio a esse cenário, uma boa notícia, publicada quinta-feira passada nesta Gazeta do Povo. Nos dois últimos anos, o governo do estado conseguiu reduzir em 40% o número de presos em delegacias. Foram transferidos para espaços adequados. É quase metade da bomba desarmada – eram 16,2 mil presos; sobraram 9,1 mil à espera de tratamento adequado: eles ainda dormem na delegacia. O interior, em particular, resente de medidas, é verdade, mas nada que tire o brilho da notícia – a melhor dos últimos tempos em se tratando do sistema prisional no Paraná.

As delegacias funcionam como escoadouro das cadeias. São sempre o pior remendo para o soneto. Impossível esquecer as descrições que os presos dão dos pequenos espaços divididos por multidões. Cheiros insuportáveis, três camas para 30 pessoas, hierarquias absurdas, ditando quem manda e quem obedece. Tão absurdo quanto é deduzir que o estágio a que se chegou é resultado do descaso geral da nação com o assunto, fazendo crescer o obscurantismo em torno das matrizes da violência.

São variações para o tema, é verdade. Se a palavra de ordem for olhar para frente, a palavra certa é mirar no exemplo dado pela secretária de Estado da Justiça, Cidadania e Direitos Humanos, Maria Teresa Uille Gomes. Ela agarrou esse touro à unha e seus esforços merecem continuidade. Sim, porque a redução de 40% deixa ainda 60% por vir. Faltam 5.634 vagas para sanar o déficit, como informa a reportagem, extirpando de vez a prática ilegal de prender nas delegacias e não em unidades prisionais ou em centros de triagem.

Em paralelo às delegacias sendo usadas para o que de fato se destinam, devem ser impulsionados outros processos, capazes de reabilitar. E, o mais difícil, devolver a credibilidade ao sistema prisional. De acordo com a secretária de Justiça, serão erguidos 14 presídios no Paraná até o fim de 2014. Que esses projetos andem de braço dado com a sociedade organizada. Não é impossível – as boas novas que agora recebemos de presente são uma prova disso.

(Adaptado de: <<http://www.gazetadopovo.com.br/opiniaio/conteudo.phtml?id=1333085&tit=Boas-novas-na-delegacia>>. Acesso em: 24 jan. 2013.)

21 Acerca da linguagem empregada no texto, considere as afirmativas a seguir.

- I. O texto apresenta linguagem mista, formal e informal, como comprovam as expressões “obscurantismo em torno das matrizes da violência” e “agarrou esse touro à unha”, respectivamente.
- II. O texto apresenta trechos com linguagem figurada, conotativa, usando metáforas para expressar os sentidos, por exemplo, “é quase metade da bomba desarmada” e “são sempre o pior remendo para o soneto”.
- III. O texto apresenta exclusivamente linguagem técnica, de cunho formal, com dados estatísticos para confirmar as informações veiculadas, por exemplo, “faltam 5.634 vagas para sanar o déficit”.
- IV. O texto apresenta exclusivamente linguagem denotativa, literal, cujo objetivo é gerar formalidade e maior credibilidade às informações que estão sendo veiculadas.

Assinale a alternativa correta.

- a) Somente as afirmativas I e II são corretas.
- b) Somente as afirmativas I e IV são corretas.
- c) Somente as afirmativas III e IV são corretas.
- d) Somente as afirmativas I, II e III são corretas.
- e) Somente as afirmativas II, III e IV são corretas.

22 A partir das informações presentes no texto, considere as afirmativas a seguir.

- I. O Brasil é o país de maior destaque no mundo em desrespeito aos direitos humanos nas prisões.
- II. A sociedade organizada tornará possível a construção de 14 novos presídios no Paraná em 2014.
- III. Há uma crítica à cultura de descaso em relação ao sistema prisional brasileiro.
- IV. O sistema prisional brasileiro carece de projetos capazes de reabilitar os presos.

Assinale a alternativa correta.

- a) Somente as afirmativas I e II são corretas.
- b) Somente as afirmativas I e IV são corretas.
- c) Somente as afirmativas III e IV são corretas.
- d) Somente as afirmativas I, II e III são corretas.
- e) Somente as afirmativas II, III e IV são corretas.

23 Quanto aos recursos linguístico-semânticos empregados no texto, considere as afirmativas a seguir.

- I. No trecho “Como já chegou a declarar o sociólogo Francisco de Oliveira”, o termo em destaque tem sentido de conformidade.
- II. Em “... o sistema prisional é a única instituição pública mantida pelo cidadão brasileiro, mas que não lhe diz respeito”, o termo em destaque se refere ao sistema prisional.
- III. No fragmento “Tão grave é que uma das frases de 2012 foi a do ministro da Justiça, José Eduardo Cardozo”, o termo em destaque é um vocativo.
- IV. No trecho “... a palavra certa é mirar no exemplo dado pela secretária de Estado da Justiça, Cidadania e Direitos Humanos, Maria Teresa Uille Gomes”, o termo em destaque é um aposto.

Assinale a alternativa correta.

- a) Somente as afirmativas I e II são corretas.
- b) Somente as afirmativas I e IV são corretas.
- c) Somente as afirmativas III e IV são corretas.
- d) Somente as afirmativas I, II e III são corretas.
- e) Somente as afirmativas II, III e IV são corretas.

24 A expressão “agarrou esse touro à unha” revela uma figura de linguagem muito comum nos textos. Assinale a alternativa que apresenta, corretamente, esse recurso de linguagem.

- a) **Metáfora: consiste em designar alguma coisa, mediante uma palavra ou expressão cujo significado tem uma relação de semelhança ou analogia.**
- b) Personificação: figura que consiste em atribuir qualidades humanas a animais e coisas.
- c) Ironia: figura de linguagem em que se diz o contrário do que se quer dar a entender.
- d) Hipérbole: consiste em enfatizar ou exagerar no significado de palavras, expressões ou frases.
- e) Eufemismo: figura de linguagem que substitui um termo grosseiro por outro mais suave.

25 A partir do fragmento “... fazendo crescer o obscurantismo em torno das matrizes da violência”, assinale a alternativa que apresenta, corretamente, o sentido expresso pelo termo em destaque.

- a) O estado de desconfiança.
- b) O estado de obsessão.
- c) A falta de determinação.
- d) A falta de punição.
- e) **O estado de completa ignorância.**

26 No fragmento “**Se** a palavra de ordem for olhar para frente”, a palavra em destaque apresenta o seguinte efeito de sentido:

- a) comparação.
- b) consequência.
- c) conclusão.
- d) explicação.
- e) **condição.**

Leia o texto, a seguir, e responda às questões de 27 a 30.

Resolução do Conselho Nacional de Trânsito (Contran) publicada ontem instituiu, na prática, a tolerância zero de álcool no trânsito em todo o país. Agora, mesmo que o motorista parado nas blitzes da lei seca tenha bebido menos de um copo de cerveja terá de pagar multa por infringir a lei – que aumentou para R\$ 1.915,40 no fim de 2012. A resolução 432 do Contran foi publicada no *Diário Oficial da União*. Ela regulamentou as mudanças aprovadas pelo Congresso Nacional, que foram sancionadas pela presidenta Dilma Rousseff em 20 de dezembro, e passaram, por exemplo, a aceitar testemunhos de embriaguez como prova de que o motorista cometeu infração.

Uma das principais mudanças foi estabelecer como infração dirigir sob “qualquer influência” de álcool. Mas, como há certos níveis de imprecisão nos aparelhos de bafômetro, faltavam regras para definir como caracterizar qualquer limite. A decisão do Contran, após uma série de estudos, foi determinar que o motorista terá cometido infração se tiver 0,01 miligrama de álcool para cada litro de ar expelido dos pulmões na hora de fazer o teste. Mas definiu, na regulamentação, que o limite de referência será de 0,05 miligramas – por causa dessas diferenças dos aparelhos, em uma espécie de “margem de erro” aceitável. Assim, se o bafômetro apresentar o número “0,05” no visor, o motorista já terá de pagar multa de R\$ 1.915,40.

Outra determinação é que, no caso de o motorista fazer exame de sangue, não será admitido nenhum nível de álcool no sangue. “Sabemos que os acidentes não são reduzidos por decreto, mas é preciso dar um basta à violência no trânsito”, disse ontem o ministro das Cidades, Aguinaldo Ribeiro, durante evento em Brasília para detalhar as mudanças na legislação. “O grande objetivo é mudar a postura da sociedade em relação ao risco do uso do álcool ao volante”, explicou.

(Adaptado de: RIBEIRO, B.; VALLE, C. do; MENDES, V. Começa a valer tolerância zero de álcool no trânsito. *O Estado de S. Paulo*. São Paulo, 30 jan. 2013. Cidades. C8.)

27 Sobre o texto, trata-se de

- a) uma reportagem, de caráter investigativo, apresentando as origens do fato, suas razões e efeitos.
- b) um editorial, de caráter argumentativo, cuja principal característica é opinar acerca de determinadas ideias.
- c) uma entrevista, de caráter opinativo, cuja intenção é emitir opiniões e apresentar ideias acerca dos fatos.
- d) **uma notícia, de caráter informativo, cuja contemporaneidade em relação ao acontecimento é uma de suas características essenciais.**
- e) uma carta do leitor, de caráter argumentativo, cuja principal intenção é convencer o interlocutor sobre determinada ideia.

28 Acerca das informações presentes no texto, considere as afirmativas a seguir.

- I. **A lei seca objetiva reduzir a violência no trânsito e também propiciar uma cultura de responsabilidade social aos motoristas.**
- II. **Conforme a regulamentação do Contran, nenhum nível de álcool será admitido no teste de bafômetro.**
- III. **A resolução 432 do Conselho Nacional de Trânsito garante a redução dos acidentes e da violência no trânsito.**
- IV. **A infração pode ser comprovada mediante teste de bafômetro, exame de sangue e testemunhos de embriaguez.**

- a) Somente as afirmativas I e II são corretas.
- b) **Somente as afirmativas I e IV são corretas.**
- c) Somente as afirmativas III e IV são corretas.
- d) Somente as afirmativas I, II e III são corretas.
- e) Somente as afirmativas II, III e IV são corretas.

29 De acordo com os recursos linguístico-semânticos do texto, considere as afirmativas a seguir.

- I. No trecho “O grande objetivo é mudar a postura da sociedade em relação ao risco do uso do álcool ao volante”, as aspas são usadas no texto por se tratar de um discurso direto.
- II. No fragmento “Resolução do Conselho Nacional de Trânsito (Contran) publicada ontem”, os parênteses foram usados para indicar a sigla da expressão anterior.
- III. Em “Uma das principais mudanças foi estabelecer como infração dirigir sob “qualquer influência” de álcool”, a expressão em destaque está entre aspas no texto por se tratar de uma metáfora.
- IV. No fragmento “Sabemos que os acidentes não são reduzidos por decreto, mas é preciso dar um basta à violência no trânsito”, as aspas são usadas no texto para realçar o argumento apresentado.

- a) Somente as afirmativas I e II são corretas.
- b) Somente as afirmativas I e IV são corretas.
- c) Somente as afirmativas III e IV são corretas.
- d) Somente as afirmativas I, II e III são corretas.
- e) Somente as afirmativas II, III e IV são corretas.

30 Acerca dos recursos morfossintáticos do texto, considere as afirmativas a seguir.

- I. No fragmento “mesmo que o motorista parado nas blitzes da lei seca tenha bebido menos de um copo de cerveja”, a expressão destacada pode ser substituída, sem prejuízo do sentido original, por “uma vez que”.
- II. No trecho “terá de pagar multa por infringir a lei – que aumentou para R\$ 1.915,40 no fim de 2012”, a ambiguidade do pronome em destaque se desfaz pela substituição desse termo por “a qual”.
- III. Em “Ela regulamentou as mudanças aprovadas pelo Congresso Nacional, que foram sancionadas pela presidenta”, o pronome em destaque pode ser substituído pelo termo “as quais”, pois se refere à expressão “as mudanças aprovadas”.
- IV. Em “... e passaram, por exemplo, a aceitar testemunhos de embriaguez como prova de que o motorista cometeu infração”, o termo em destaque é formado pelo processo de derivação sufixal.

Assinale a alternativa correta.

- a) Somente as afirmativas I e II são corretas.
- b) Somente as afirmativas I e IV são corretas.
- c) Somente as afirmativas III e IV são corretas.
- d) Somente as afirmativas I, II e III são corretas.
- e) Somente as afirmativas II, III e IV são corretas.

31 É atribuição do Departamento Penitenciário Nacional

- a) supervisionar os patronatos, bem como a assistência aos egressos.
- b) emitir parecer sobre indulto e comutação de pena.
- c) requerer a aplicação de medida de segurança.
- d) requerer a internação, a desinternação e o restabelecimento da situação anterior.
- e) **inspecionar e fiscalizar periodicamente os estabelecimentos e serviços penais.**

32 Em conformidade com a Lei Federal nº 9.455/97, ocorre a inativação de crime de tortura em razão de discriminação

- a) sexual.
- b) política.
- c) de nacionalidade.
- d) **religiosa.**
- e) econômica.

33 Caso o crime de tortura seja cometido por agente público, a pena é aumentada de

- a) um oitavo a um quinto.
- b) um oitavo a um quarto.
- c) **um sexto a um terço.**
- d) um quinto a um terço.
- e) um quarto a um meio.

34 Assinale a alternativa que apresenta, corretamente, um dos objetivos fundamentais da República Federativa do Brasil, definidos na Constituição Federal.

- a) Incentivar a liberdade de mercado.
- b) Manter a pobreza em níveis aceitáveis.
- c) **Construir uma sociedade solidária.**
- d) Diminuir a marginalização a padrões ocidentais.
- e) Promover a integração racial.

35 Sobre os tipos de penas proibidas no Brasil, considere as afirmativas a seguir.

- I. De reclusão.
- II. De caráter perpétuo.
- III. De trabalhos forçados.
- IV. De banimento.

Assinale a alternativa correta.

- a) Somente as afirmativas I e II são corretas.
- b) Somente as afirmativas I e IV são corretas.
- c) Somente as afirmativas III e IV são corretas.
- d) Somente as afirmativas I, II e III são corretas.
- e) **Somente as afirmativas II, III e IV são corretas.**

36 Conforme a Constituição do Estado do Paraná, a polícia militar do Estado é comandada por oficial da ativa do último posto e subordina-se ao

- a) Comando da Força Nacional.
- b) Ministro da Justiça.
- c) Presidente da República.
- d) **Governador do Estado.**
- e) Presidente do Tribunal de Justiça.

- 37** Nos casos legais de submissão do condenado à identificação do seu perfil genético, é correto afirmar que essa identificação
- a) será armazenada em banco de dados sigiloso.
 - b) será realizada mediante extração de tecido muscular.
 - c) é condicionada à autorização do condenado.
 - d) é obrigatória para os condenados por crimes contra o patrimônio.
 - e) deve ser realizada na presença da autoridade judicial.
- 38** Quanto aos atendimentos de caráter preventivo que integram a assistência à saúde do preso e do inter-nado, considere os itens a seguir.
- I. Psicológico.
 - II. Médico.
 - III. Farmacêutico.
 - IV. Odontológico.
- Assinale a alternativa correta.**
- a) Somente as afirmativas I e II são corretas.
 - b) Somente as afirmativas I e IV são corretas.
 - c) Somente as afirmativas III e IV são corretas.
 - d) Somente as afirmativas I, II e III são corretas.
 - e) Somente as afirmativas II, III e IV são corretas.
- 39** Para os efeitos da Lei de Execução Penal, a contar da saída do estabelecimento, o liberado definitivo é considerado egresso pelo prazo de
- a) 3 meses.
 - b) 6 meses.
 - c) 1 ano.
 - d) 1 ano e 6 meses.
 - e) 2 anos.
- 40** Sobre os elementos que constituem direitos do preso, considere as afirmativas a seguir.
- I. Previdência social.
 - II. Constituição de pecúlio.
 - III. Chamamento numérico.
 - IV. Escolha de local de trabalho.
- Assinale a alternativa correta.**
- a) Somente as afirmativas I e II são corretas.
 - b) Somente as afirmativas I e IV são corretas.
 - c) Somente as afirmativas III e IV são corretas.
 - d) Somente as afirmativas I, II e III são corretas.
 - e) Somente as afirmativas II, III e IV são corretas.
- 41** Ressalvada a hipótese do regime disciplinar diferenciado, o isolamento, a suspensão e a restrição de direitos não podem exceder a
- a) 15 dias.
 - b) 30 dias.
 - c) 45 dias.
 - d) 60 dias.
 - e) 90 dias.

42 Sobre as áreas de atuação da Secretaria de Estado da Justiça, Cidadania e Direitos Humanos do Estado do Paraná (SEJU), em conformidade com seu Plano Diretor 2011/2014, considere as afirmativas a seguir.

- I. Ciência e Tecnologia.
- II. Educação.
- III. Saúde.
- IV. Combate à discriminação de sexo.

Assinale a alternativa correta.

- a) Somente as afirmativas I e II são corretas.
- b) Somente as afirmativas I e IV são corretas.
- c) Somente as afirmativas III e IV são corretas.
- d) Somente as afirmativas I, II e III são corretas.
- e) Somente as afirmativas II, III e IV são corretas.

43 Em sintonia com o Art. XXIII da Declaração Universal dos Direitos Humanos, considere as afirmativas a seguir.

- I. Toda pessoa tem direito ao trabalho, à livre escolha de emprego, a condições justas e favoráveis de trabalho e à proteção contra o desemprego.
- II. Toda pessoa que trabalhe tem direito a uma remuneração justa e satisfatória, que lhe assegure, assim como à sua família, uma existência compatível com a dignidade humana, e a que se acrescentarão, se necessário, outros meios de proteção social.
- III. Toda pessoa tem direito a organizar sindicatos e neles ingressar para proteção de seus interesses.
- IV. Toda pessoa, ao realizar trabalho igual a outra, tem direito a remuneração diferente, motivada por distinção de nacionalidade.

Assinale a alternativa correta.

- a) Somente as afirmativas I e II são corretas.
- b) Somente as afirmativas I e IV são corretas.
- c) Somente as afirmativas III e IV são corretas.
- d) Somente as afirmativas I, II e III são corretas.
- e) Somente as afirmativas II, III e IV são corretas.

44 O Título VI do Estatuto da Criança e do Adolescente versa sobre o acesso à Justiça. Em seu Art. 142, dispõe que:

Os menores de dezesseis anos serão _____ e os maiores de dezesseis e menores de vinte e um anos _____ por seus pais, tutores ou curadores, na forma da legislação civil ou processual.

Parágrafo único. A autoridade judiciária dará _____ à criança ou adolescente, sempre que os interesses destes colidirem com os de seus pais ou responsável, ou quando carecer de _____ legal ainda que eventual.

Assinale a alternativa que completa, correta e respectivamente, as lacunas do texto.

- a) assistidos, representados, curador especial, representação ou assistência.
- b) assistidos, representados, representação ou assistência, curador especial.
- c) representados, assistidos, curador especial, representação ou assistência.
- d) representados, assistidos, representação ou assistência, curador especial.
- e) representados ou assistidos, representados, representação ou assistência, curador especial.

45 Conforme definido no Estatuto Penitenciário do Estado do Paraná, quanto ao regime disciplinar, é correto afirmar que o confinamento do preso é

- a) proibido em qualquer caso.
- b) consentido em alguns casos.
- c) tolerado, dependendo do caso.
- d) restrito a alguns tipos de preso.
- e) dependente de autorização expressa.

46 A Colônia Agrícola, Industrial ou Mista destina-se ao condenado ao cumprimento de pena

- a) privativa de liberdade, em regime aberto.
- b) privativa de liberdade, em regime fechado.
- c) de reclusão, em regime semiaberto.
- d) de reclusão, em regime fechado.
- e) privativa de liberdade, em regime semiaberto.

47 A alegação, pelo preso, de doença ou estado de precariedade física para eximir-se de obrigações considera-se falta

- a) meio leve.
- b) leve.
- c) média.
- d) meio grave.
- e) grave.

48 Leia o texto a seguir.

A Declaração Universal dos Direitos Humanos (DUDH) foi aprovada em 1948 na Assembleia Geral da Organização das Nações Unidas (ONU). O documento é a base da luta universal contra a opressão e a discriminação, defende a igualdade e a dignidade das pessoas e reconhece que os direitos humanos e as liberdades fundamentais devem ser aplicados a cada cidadão do planeta.

(Disponível em: <<http://www.brasil.gov.br/sobre/cidadania/direitos-do-cidadao/declaracao-universal-dos-direitos-humanos>>. Acesso em: 22 fev. 2013.)

Com relação aos direitos previstos na Declaração, considere as afirmativas a seguir.

- I. O Estado tem prioridade de direito na escolha do gênero de instrução que será ministrada para as crianças e os estudantes.
- II. Toda pessoa tem direito à liberdade de locomoção e à residência dentro das fronteiras de cada Estado.
- III. Toda pessoa tem deveres para com a comunidade, em que o livre e pleno desenvolvimento de sua personalidade é possível.
- IV. Os homens e as mulheres de maior idade, sem qualquer restrição de raça, nacionalidade ou religião, têm o direito de contrair matrimônio e fundar uma família. Gozam de iguais direitos em relação ao casamento, sua duração e sua dissolução.

Assinale a alternativa correta.

- a) Somente as afirmativas I e II são corretas.
- b) Somente as afirmativas I e IV são corretas.
- c) Somente as afirmativas III e IV são corretas.
- d) Somente as afirmativas I, II e III são corretas.
- e) Somente as afirmativas II, III e IV são corretas.

49 De acordo com o Título VII, do Estatuto da Criança e do Adolescente, em seu Art. 231, a autoridade policial responsável pela apreensão de criança ou adolescente deve fazer “imediate comunicação à autoridade judiciária competente e à família do apreendido ou à pessoa por ele indicada”.
Caso não o faça, estará sujeita à pena de detenção de

- a) três meses a um ano.
- b) seis meses a dois anos.**
- c) seis meses a três anos.
- d) um ano a três anos.
- e) até um ano ou multa.

50 Leia os textos a seguir.

Não sigais os que argumentam com o grave das acusações, para se armarem de suspeita e execração contra os acusados; como se, pelo contrário, quanto mais odiosa a acusação, não houvesse o juiz de se precaver mais contra os acusadores, e menos perder de vista a presunção de inocência, comum a todos os réus, enquanto não liquidada a prova e reconhecido o delito.

(BARBOSA, R. *Oração aos Moços*. 1921. Disponível em: <http://www.casaruibarbosa.gov.br/dados/DOC/artigos/rui_barbosa/FCRB_RuiBarbosa_Oracao_aos_mocos.pdf>. Acesso em: 22 fev. 2013.)

1) Toda pessoa acusada de um ato delituoso tem o direito de ser presumida inocente até que a sua culpabilidade tenha sido provada de acordo com a lei, em julgamento público no qual lhe tenham sido asseguradas todas as garantias necessárias à sua defesa.

2) Ninguém poderá ser culpado por qualquer ação ou omissão que, no momento, não constituíam delito perante o direito nacional ou internacional. Tampouco será imposta pena mais forte do que aquela que, no momento da prática, era aplicável ao ato delituoso.

(*Declaração Universal dos Direitos Humanos*. 1948)

Sobre os textos, considere as afirmativas a seguir.

- I. Os dois textos exploram o princípio da presunção de inocência.**
- II. Pena mais gravosa posterior ao delito deve ser aplicada aos atos pretéritos.**
- III. A culpa do réu, uma vez provada, torna desnecessárias as garantias atinentes à defesa.**
- IV. Para que alguém seja considerado culpado, deve existir previsão legal do delito no ordenamento pátrio ou internacional.**

Assinale a alternativa correta.

- a) Somente as afirmativas I e II são corretas.
- b) Somente as afirmativas I e IV são corretas.**
- c) Somente as afirmativas III e IV são corretas.
- d) Somente as afirmativas I, II e III são corretas.
- e) Somente as afirmativas II, III e IV são corretas.